



INSTITUCION EDUCATIVA PARTICULAR "CAMINOS A LA LUZ"




EVALUACION DE DIAGNOSTICO AREA DE MATEMATICAS

Nombre: _____ Año: _____


Fecha: _____

Lee con atencion y pinta la respuesta correcta que corresponda a la solucion de cada ejercicio.

1.- Une con una línea el objeto que se relaciona



2.- Observa cuantas vacas más que ovejas hay y escribe el número en el recuadro





INSTITUCION EDUCATIVA PARTICULAR "CAMINOS A LA LUZ"



3.- COMPARACION DE NÚMEROS.

Coloque el signo > (mayor), < (menor) o = (igual), según corresponda

Número	Signo	Número
10		15
20		11
5		10
8		17
7		19

<

>

<

<

<

4.-ESCRIBE SI VERDADERO (V) O FALSO (F)

1 ____ El número 5 va antes que el 10


2 ____ el número 7 es más grande que el número 1

3 ____ El número 4 va después que el número 12

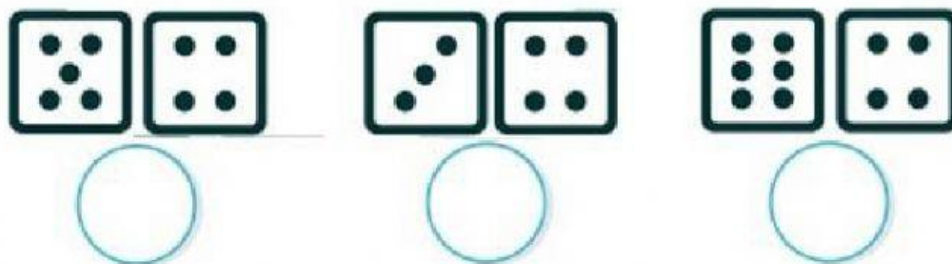
4 ____ Antes que el número 20 va el número 22



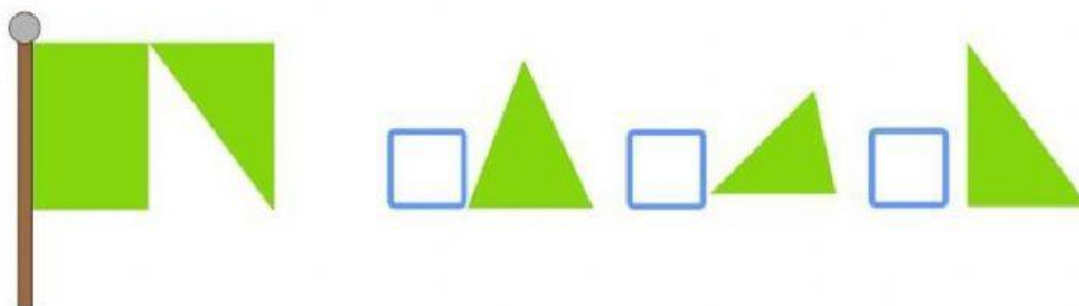
5.- Marca con una **X** el recuadro con **menos** animales.



6.- Cuenta los puntos de los dados y escribe la cantidad.



7.- Marca con una cruz **+** la figura que le falta a la bandera.





INSTITUCION EDUCATIVA PARTICULAR "CAMINOS A LA LUZ"

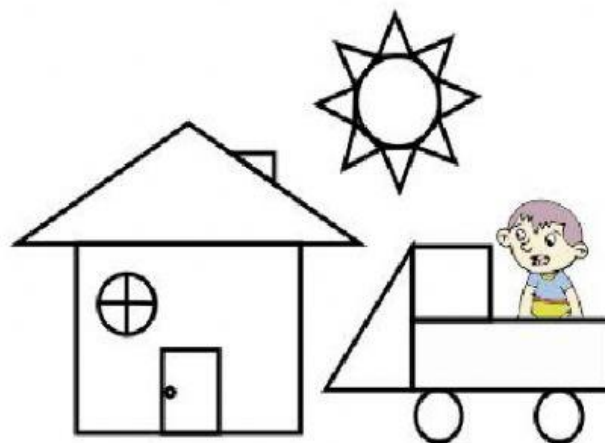


8.- Marca con una **X** el objeto **más corto** y con **+** el objeto **más largo**.



9.- Cuenta cada figura y escribe el número de veces que se repite

- ☐ Triángulos
- ☐ Rectángulos
- ☐ Círculos





INSTITUCION EDUCATIVA PARTICULAR "CAMINOS A LA LUZ"



10.- Realiza las siguientes operaciones y une con su respuesta

$$\begin{array}{r} 8 \\ + 6 \\ \hline \end{array}$$

$$\begin{array}{r} 9 \\ - 5 \\ \hline \end{array}$$

4

14