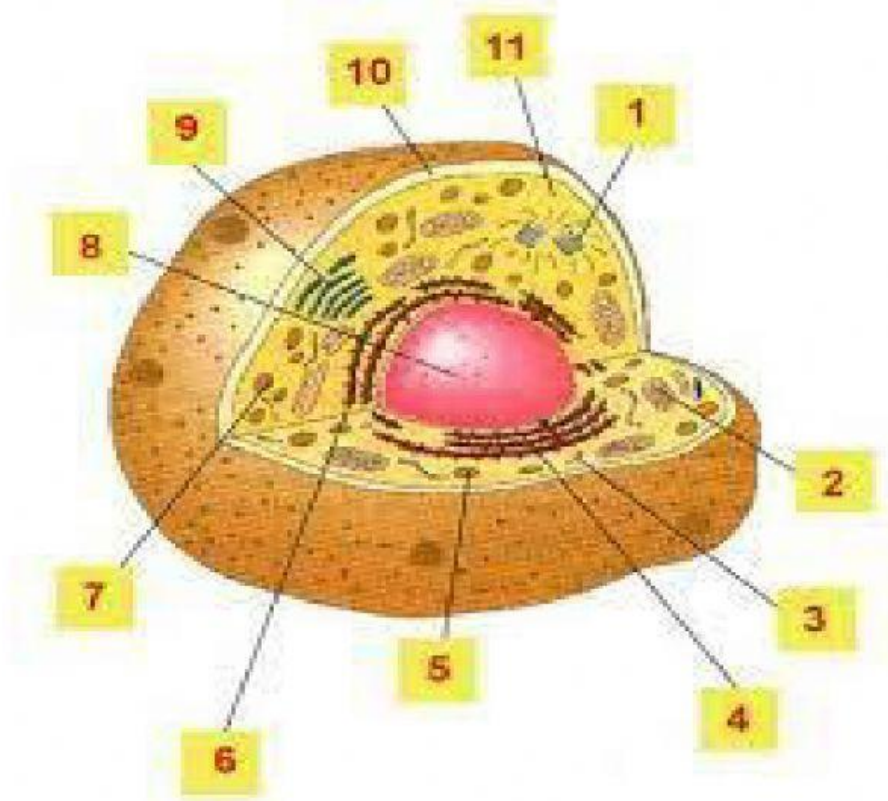


EVALUACIÓN SESIÓN 2
LOS ORGANELOS CELULARES Y SERES VIVOS

Nombre _____ Fecha _____
Institución _____

1) Colócale nombre correctamente a las partes de la célula.



1) _____

2) _____

3) _____

4) _____

5) _____

6) _____

7) _____






8) _____

9) _____

10) _____

11) _____

2) Completa la siguiente tabla con las partes de la célula y sus funciones.

Organelo celular	Nombre	Función
		
		
		
		
		

3) Responde verdadero o falso

- a) Los seres unicelulares poseen varias células formando diversos tejidos. _____
- b) Los protozoos pertenecen a los seres unicelulares. _____
- c) Los seres pluricelulares se forman a partir de una célula madre. _____
- d) los virus pertenecen a los seres pluricelulares _____
- e) El león es un ser unicelular _____

4) Completa

- a) los _____ no poseen núcleo
- b) Las _____ contienen el material genético en el núcleo
- c) En los _____ el ADN se encuentra en el _____
- d) Las células _____ dependen de otras células para vivir

5 Da 5 ejemplos de células procariotas y eucariotas.

PROCARIOTAS

- 1) _____
- 2) _____
- 3) _____
- 4) _____
- 5) _____

EUCARIOTAS

- 1) _____
- 2) _____
- 3) _____
- 4) _____
- 5) _____