

Selecciona la respuesta correcta

3×3

6	9	12
---	---	----

5×2

7	12	10
---	----	----

Resuelve las siguientes operaciones.

$$\begin{array}{r} 94 \\ + 35 \\ \hline \end{array}$$

$$\begin{array}{r} 36 \\ + 97 \\ \hline \end{array}$$

Resuelve las siguientes operaciones de fracciones.

$8 - 7 =$

$$\frac{8}{8} - \frac{7}{8} = \underline{\quad}$$

$4 - 3 =$

$$\frac{4}{5} - \frac{3}{5} = \underline{\quad}$$

$4 + 2 =$

$$\frac{4}{6} + \frac{2}{6} = \underline{\quad}$$

$5 + 3 =$

$$\frac{5}{9} + \frac{3}{9} = \underline{\quad}$$

Selecciona la respuesta correcta.

25-15

22-10

10

20

9

11






13

12

14

10

¿Cuál es el orden? Arrastra las imágenes donde corresponda.



1

2

3

4

Completa la serie de 3 en 3 arrastrando el número donde corresponda.

3

30

27

6

21

15

12

18

24

9