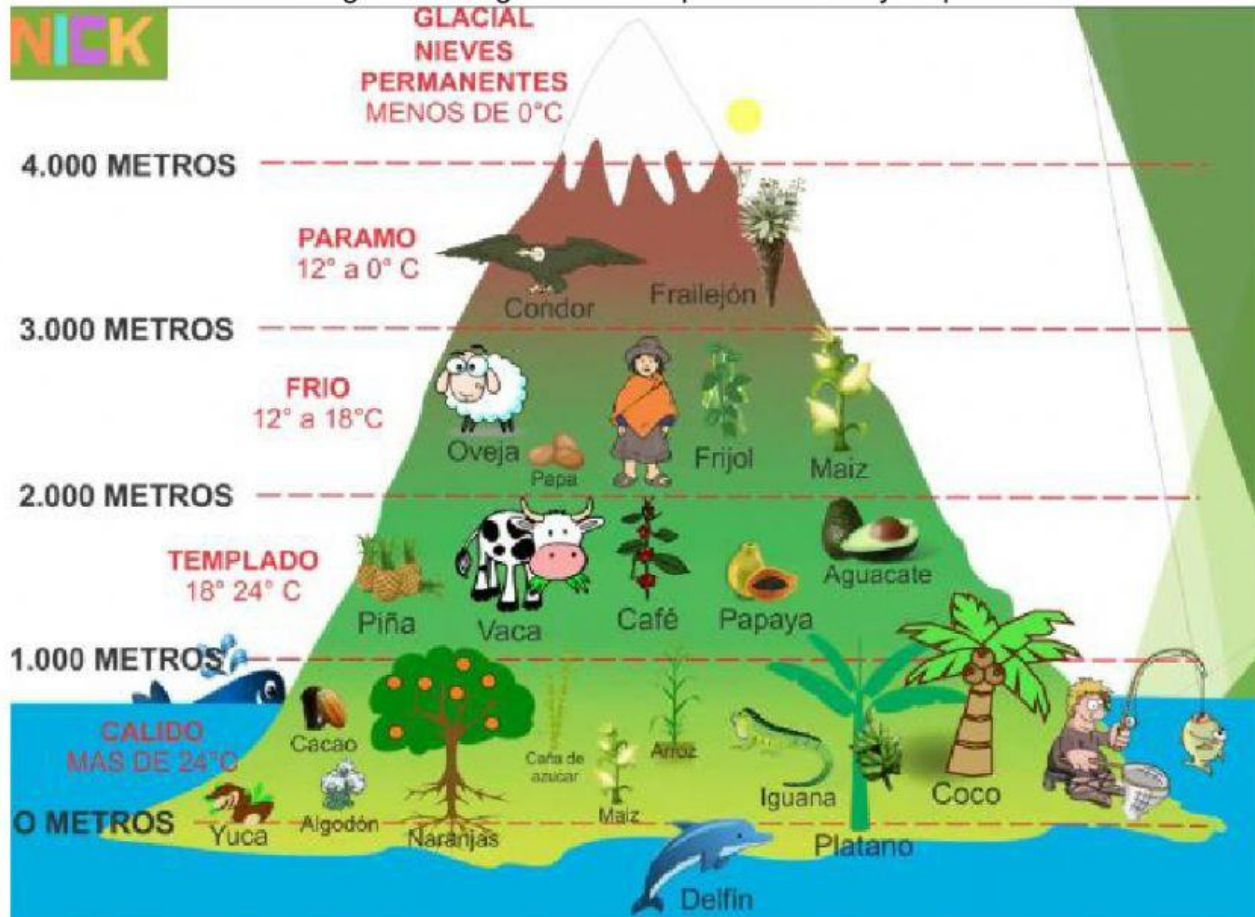


Bimestral grado 2

1. Los \_\_\_\_\_ son un sistema de medida que nos permite definir la temperatura de una zona, de acuerdo a la altura sobre el nivel del mar en que se encuentre. ya que el relieve es el factor que más modifica los elementos del clima. Y se dividen en: \_\_\_\_\_, \_\_\_\_\_, \_\_\_\_\_ y \_\_\_\_\_.
2. Observa la siguiente imagen sobre los pisos térmicos y responde:



- La cría de oveja es propia del piso térmico \_\_\_\_\_.
- Entre los 2.000 y 3.000 metros corresponde al piso térmico \_\_\_\_\_.
- En el piso térmicos frio se cultiva, la \_\_\_\_\_, el \_\_\_\_\_ y el \_\_\_\_\_.



COLEGIO SANTO TOMÁS MORO  
BIMESTRAL GRADO SEGUNDO  
PERIODO III

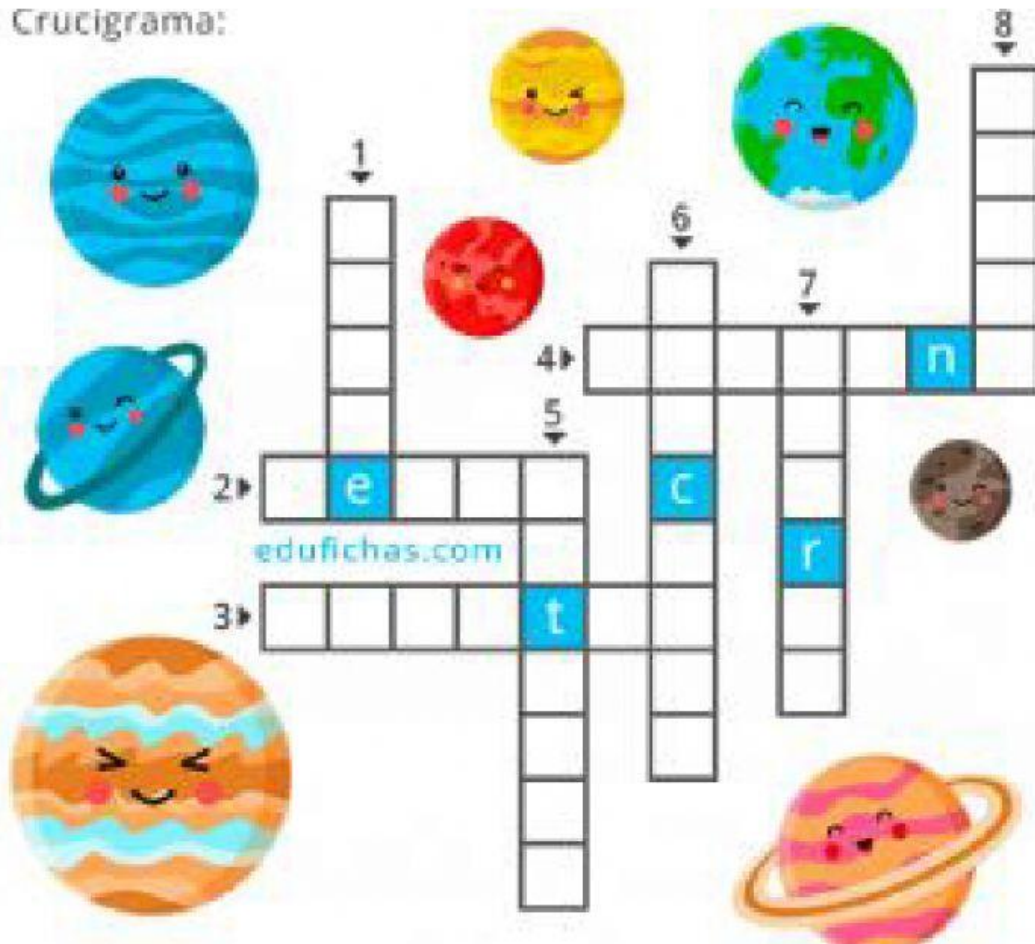
- El caño, la caña de azúcar y el algodón se cultiva en el piso térmico \_\_\_\_\_

- El cóndor es un ave que habita en el piso térmico \_\_\_\_\_

- El pico nevado están sobre los \_\_\_\_\_ metros

3. Completa el siguiente crucigrama

Crucigrama:



1. Pequeño planeta rocos y de color rojo
2. El planeta más cálido. Gira al revés (al igual que Urano)
3. Es el planeta más grande y el que más satélites tiene
4. Planeta más lejano al sol de color azul y con nombre de un Dios
5. Conocido por sus anillos. Su atmosfera es de nitrógeno
6. Es el planeta más pequeño y el más cercano al sol
7. El 70% de este planeta es agua. Tiene un satélite
8. Es el planeta más frio. Tiene el eje de rotación inclinado



**COLEGIO SANTO TOMÁS MORO**  
**BIMESTRAL GRADO SEGUNDO**  
**PERIODO III**

4. Escribe en cada espacio los nombre de los planetas del sistema solar

1.-

2.-

3.-

4.-

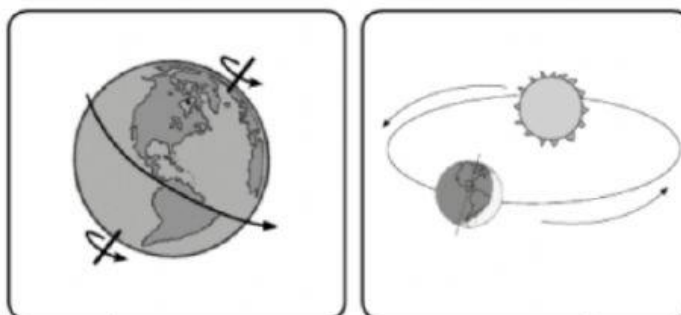
5.-

6.-

7.-

8.-

5. Observa la siguiente imagen y responde



Movimiento →		
¿En que consiste? →		
¿cuento tiempo se tarda? →		
Consecuencias →		





**COLEGIO SANTO TOMÁS MORO**  
**BIMESTRAL GRADO SEGUNDO**  
**PERIODO III**

6. Las ciudades del pasado se dividen en:
- A. Ciudades coloniales y ciudades actuales.
  - B. Pueblos indígenas, ciudades coloniales y ciudades actuales.
  - C. Pueblos indígenas y ciudades coloniales
  - D. pueblos indígenas y ciudades actuales.
7. Una necesidad básica del ser humanos son aquellas que están orientadas a la supervivencia, estas necesidades pueden ser:
- A. Seguridad, transporte, ropa, alimentos, trabajo, salud, ocio, vivienda, comunicación
  - B. Trabajo, alimentación, ocio, salud, seguridad, vivienda, zapatos, viajes
  - C. Seguridad, trabajo, salud, ocio, vivienda, comunicación, vacaciones
  - D. Ropa, alimentos, trabajo, salud, ocio, vivienda, comunicación, turismo, vacaciones
8. Observa la imagen y escribe según la necesidad que corresponde:





**COLEGIO SANTO TOMÁS MORO**  
**BIMESTRAL GRADO SEGUNDO**  
**PERIODO III**

9. Escribe en cada espacio si pertenece a producción, distribución o consumo

\_\_\_\_\_ es la acción y efecto de distribuir (dividir algo entre varias personas, dar a algo el destino conveniente, entregar una mercancía)

\_\_\_\_\_ utilizar y/o gastar un producto, un bien o un servicio para atender necesidades humanas

\_\_\_\_\_ es una cosa o un objeto producido o fabricado, algo material que se elabora de manera natural o industrial

10. Escribe en los círculos el número que corresponde a la producción, distribución o consumo.



1. Producción

2. Distribución

3. Consumo