

EVALUAMOS LO APRENDIDO

1. Completa con el principios que corresponda.

La ciudad está asentada
especialmente en
la sierra central.

El río aumenta su caudal por
las lluvias y puede ocasionar
inundaciones.

La colina es más baja que la
montaña.




Es un bonito valle con
cultivos y con un agradable
clima.

Los nevados no son eternos,
estos van cambiando a lo
largo de los años.


La depresión de Bayóvar se
ubica en Piura.

2. Coloca el nombre a cada principio según sea el caso.


Consiste en ubicar el lugar exacto de un hecho o fenómeno geográfico tomando en cuenta algunos aspectos espaciales como latitud, longitud, altitud, límites, superficie, etc.




Permite identificar el porqué de la ocurrencia de un hecho o fenómeno geográfico. Otorga carácter científico a la geografía.



Consiste en establecer semejanzas y diferencias entre el hecho o fenómeno geográfico que se está estudiando.



Consiste en dar a conocer las características de un hecho o fenómeno geográfico que se proponga a estudiar.



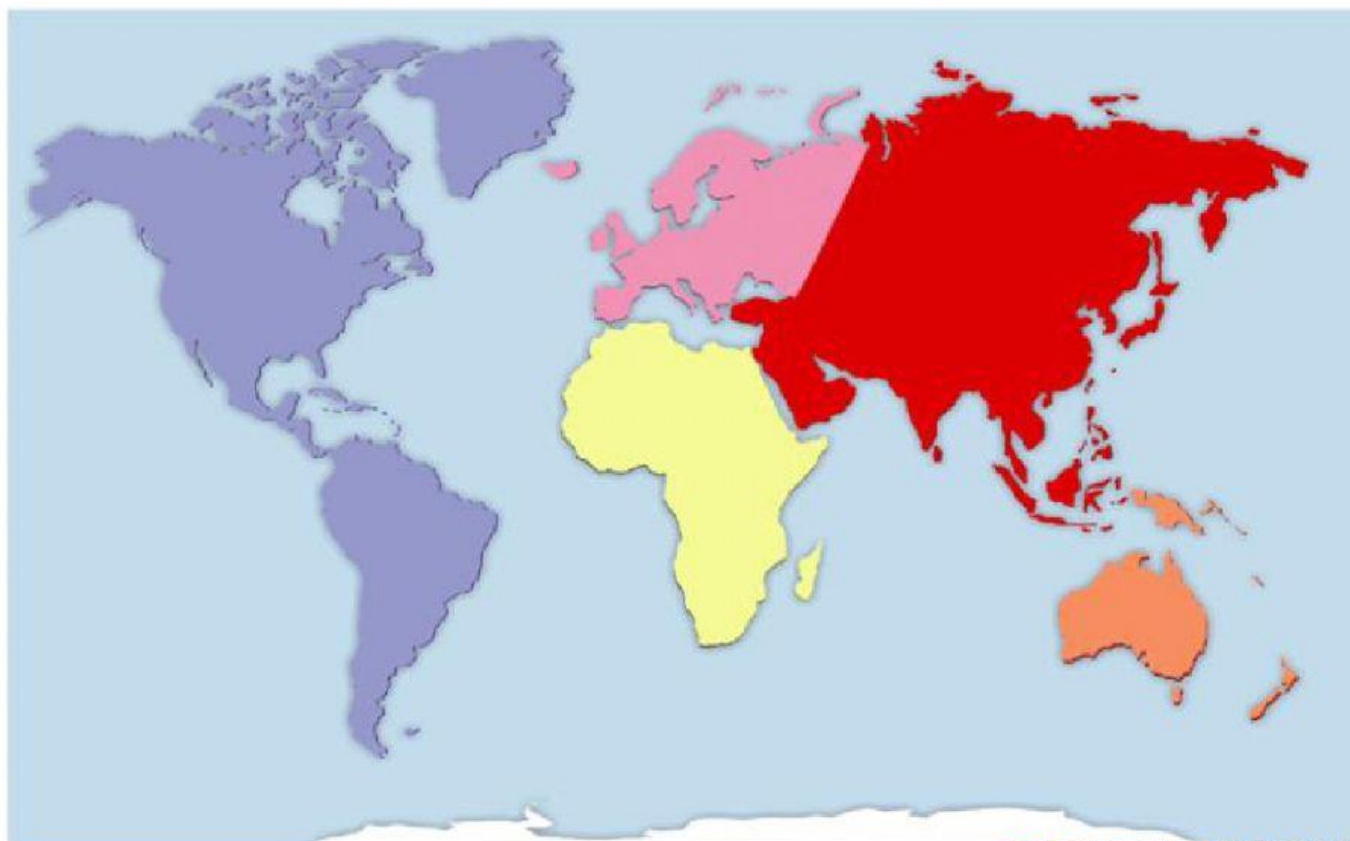
Señala que todo se encuentra en constante transformación, teniendo como agentes transformadores al hombre o a la naturaleza.



Nos dice que todo hecho o fenómeno geográfico debe ser estudiado como un todo y no de forma aislada.



2. COMPLETA EL MAPA- OCEÁNOS Y CONTIENTES



2. Coloca el nombre de los principales círculos y líneas imaginarias

