

# FUNGSI

Nama

:

No Absen

:


Kelas

:

Siswa Membaca materi pada power point sebagai berikut :



Untuk lebih jelasnya, siswa dapat menyimak vidio dibawah ini :



Setelah menyimak dan memahami materi, siswa diharapkan mengambil alat tulis untuk menyelesaikan soal latihan pada LKPD dibawah ini :

## LEMBAR KERJA PESERTA DIDIK

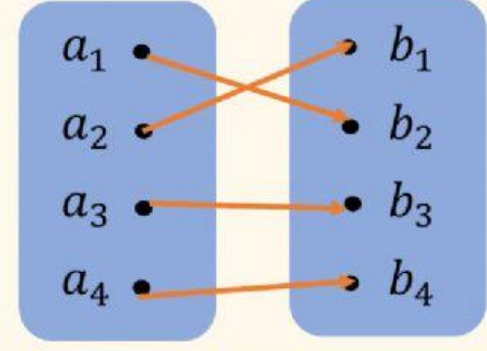
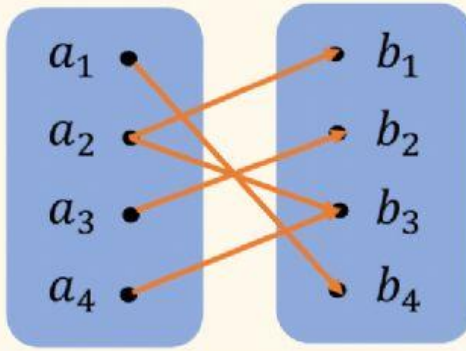
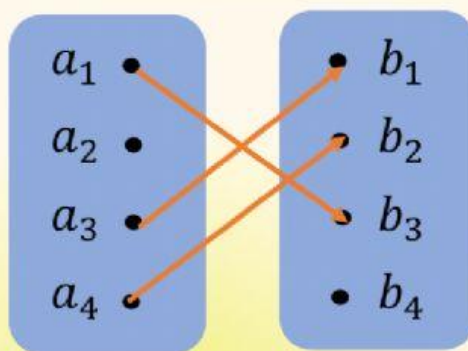
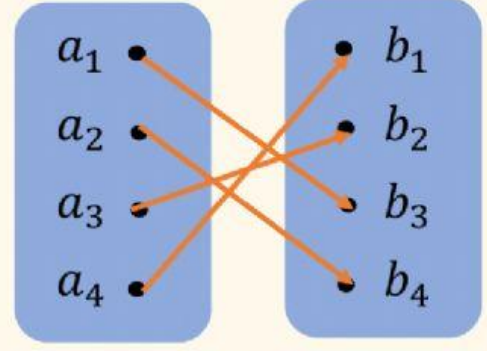
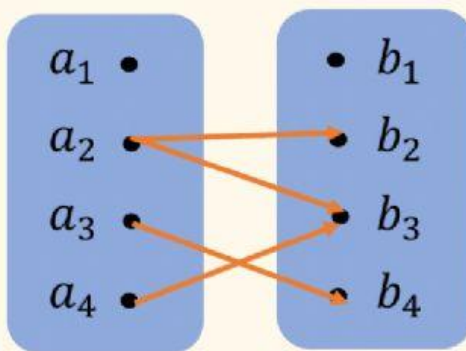
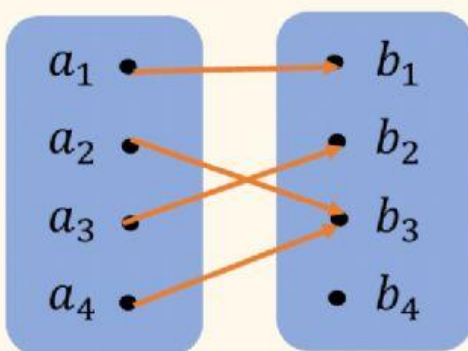
### 1. Diketahui :

- A adalah himpunan bilangan cacah kurang dari 7
- B adalah himpunan bilangan genap kurang dari 14
- C adalah himpunan bilangan prima kurang dari 20
- D adalah himpunan bilangan ganjil kurang 25

Himpunan manakah yang dapat berkorespondensi satu-satu ?

Jawab :

### 2. Pilihlah jawaban yang benar sesuai diagram panan yang menunjukkan relasi, fungsi, dan fungsi berkorespondensi satu-satu !



Ceklistlah pada bagian fungsi atau fungsi korespodensi satu-satu sesuai jawaban yang benar .

HPB	Fungsi	Fungsi Korespodensi
$\{(e,2),(f,3),(g,1),(h,4)\}$		
$\{(p,4),(q,1),(r,3),(s,4)\}$		
$\{(w,1),(x,2),(y,3),(z,4)\}$		
$\{(k,1),(l,2),(m,2),(n,3)\}$		

Setelah siswa mengerjakan LKPD yang telah diberikan, klik tombol “ FINISH” kemudian pilih “ check my answers” . Screenshot hasil pekerjaan beserta skornya kemudian dikirim bagian Tugas Siswa di Google Classroom.