

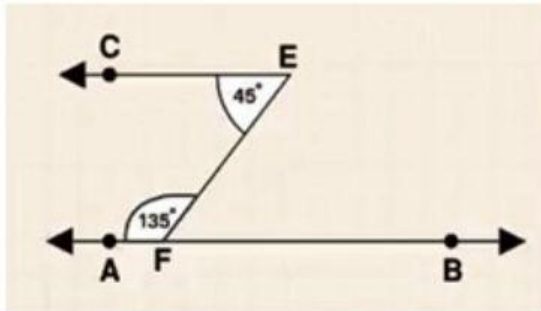


# ใบงาน เรื่อง ขนาดของมุมแย้ง (1)

ชื่อ - สกุล \_\_\_\_\_ ชั้น \_\_\_\_\_ เลขที่ \_\_\_\_\_

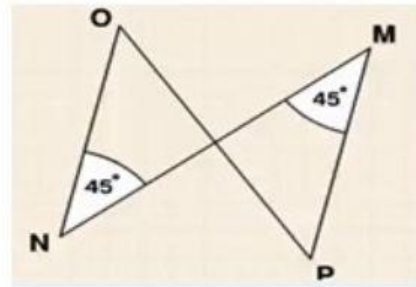
คำชี้แจง ให้นักเรียนตอบคำถามต่อไปนี้

1. รูปภาคต่อต่อไปนี้  $\overleftrightarrow{EC} // \overleftrightarrow{AB}$  หรือไม่



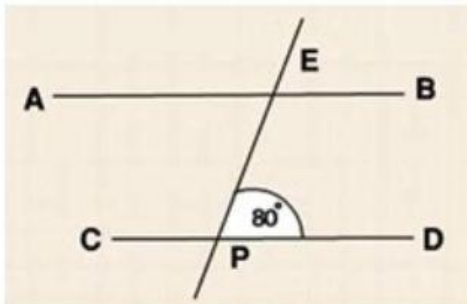
.....  
 .....

2. รูปภาคต่อต่อไปนี้  $\overleftrightarrow{ON} // \overleftrightarrow{MP}$  หรือไม่



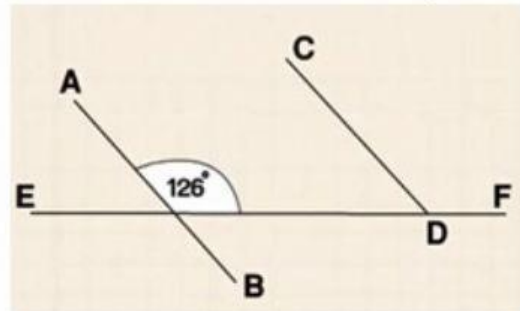
.....  
 .....

3. กำหนดให้  $\overline{AB} // \overline{CD}$  จงหาขนาดของ  $\hat{CPE}$  ว่าขนาดมุมเท่าใด



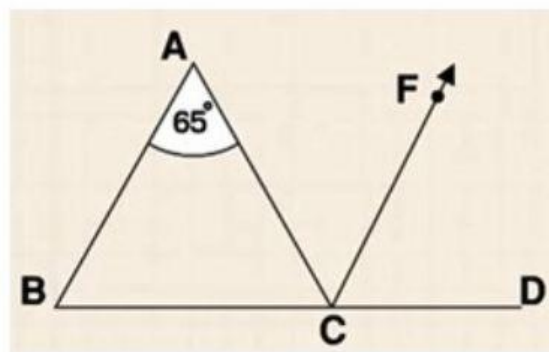
.....  
 .....

4. กำหนดให้  $\overline{AB} // \overline{CD}$  และมี  $\overline{EF}$  เป็นเส้นตัด จงหาขนาดของ  $\hat{CDE}$  ว่าขนาดมุมเท่าใด



.....  
 .....

5. กำหนดให้  $\overleftrightarrow{AB} // \overleftrightarrow{CF}$  และมี  $\overleftrightarrow{AC}$  เป็นเส้นตัด จงหาขนาดของ  $\hat{ACF}$  ว่าขนาดมุมเท่าใด



.....  
 .....

