



LEMBAR KERJA PESERTA DIDIK (LKPD)
TEMA 3 Makanan Sehat
Subtema 2 Pentingnya Makanan Sehat bagi Tubuh
Pembelajaran 1


Satuan Pendidikan : SD Negeri Wonolopo 02
Mata Pelajaran : Tematik (Bahasa Indonesia, IPA)
Kelas/Semester : V/ 1
Materi : 1. Iklan media cetak
2. Organ pencernaan dan cara merawatnya

A. Identitas

PENILAIAN MANDIRI	
NAMA	
NO URUT	
NILAI	

B. Tujuan Pembelajaran

1. Melalui menyaksikan video peserta didik mampu memutuskan (C5) unsur – unsur dan informasi yang disampaikan paparan iklan media cetak
2. Melalui pembuatan iklan peserta didik mampu menyajikan (P3) informasi yang disampaikan paparan iklan media cetak dalam bentuk lisan dan visual
3. Melalui penugasan siswa mampu menyebutkan (C1) organ pencernaan manusia dan fungsinya
4. Melalui menyaksikan video peserta didik mampu menyimpulkan (C5) cara memelihara kesehatan organ pencernaan manusia
5. Melalui pembuatan karya peserta didik mampu membuat (P2) poster tentang cara merawat organ pencernaan manusia





C. Petunjuk

KEGIATAN 1

1. Perhatikan video iklan yang berisikan cara mencegah gangguan pencernaan
2. Isilah identitas dan kerjakanlah secara individu Lembar Kerja yang telah dibagikan
3. Tuliskan ciri – ciri dan unsur iklan yang ditampilkan

KEGIATAN 2

Bacalah poster lalu tentukan apa penyebab terjadinya gangguan pencernaan manusia beserta gejalanya

KEGIATAN 3

Setelah mengerjakan lembar kerja siswa secara berurutan, sekarang saatnya kalian membuat proyek berupa poster layanan masyarakat

METODOLOGI

PAJANG HASIL





D. Langkah Kegiatan

KEGIATAN 1

1. Perhatikan video iklan yang berisikan cara mencegah gangguan pencernaan
2. Isilah identitas dan kerjakanlah secara individu Lembar Kerja yang telah dibagikan
3. Tuliskan ciri – ciri dan unsur iklan yang ditampilkan

Unsur - Unsur Iklan	
Kalimat Deskriptif	
Kalimat Persuasif	
Ciri – ciri iklan layanan masyarakat	
• Judul	
• Informasi	
• Grafik	
• Sumber	
• Refleksi	





KEGIATAN 2

1. Bacalah teks di bawah ini lalu tentukan apa penyebab terjadinya gangguan pencernaan manusia.

Berbagai Gangguan pada Sistem Pencernaan Manusia

Xerostomia

Gangguan yang menyebabkan produksi saliva (air ludah) menjadi sedikit.

Parotitis

Pembengkakan kelenjar air ludah yang berada di bawah telinga karena virus.

Diare

Gangguan penyerapan air, sehingga sisa makanan masih banyak mengandung air.

Gastritis/maag

Radang yang terjadi di bagian dinding lambung.

Apendisitis/ Usus Buntu

Peradangan yang terjadi di bagian usus buntu karena adanya penyumbatan.

Sembelit

Penyerapan air berlebih, sehingga sisa makanan keras dan kurang air.

2. Tuliskan organ pencernaan apakah yang terganggu dan gejalanya

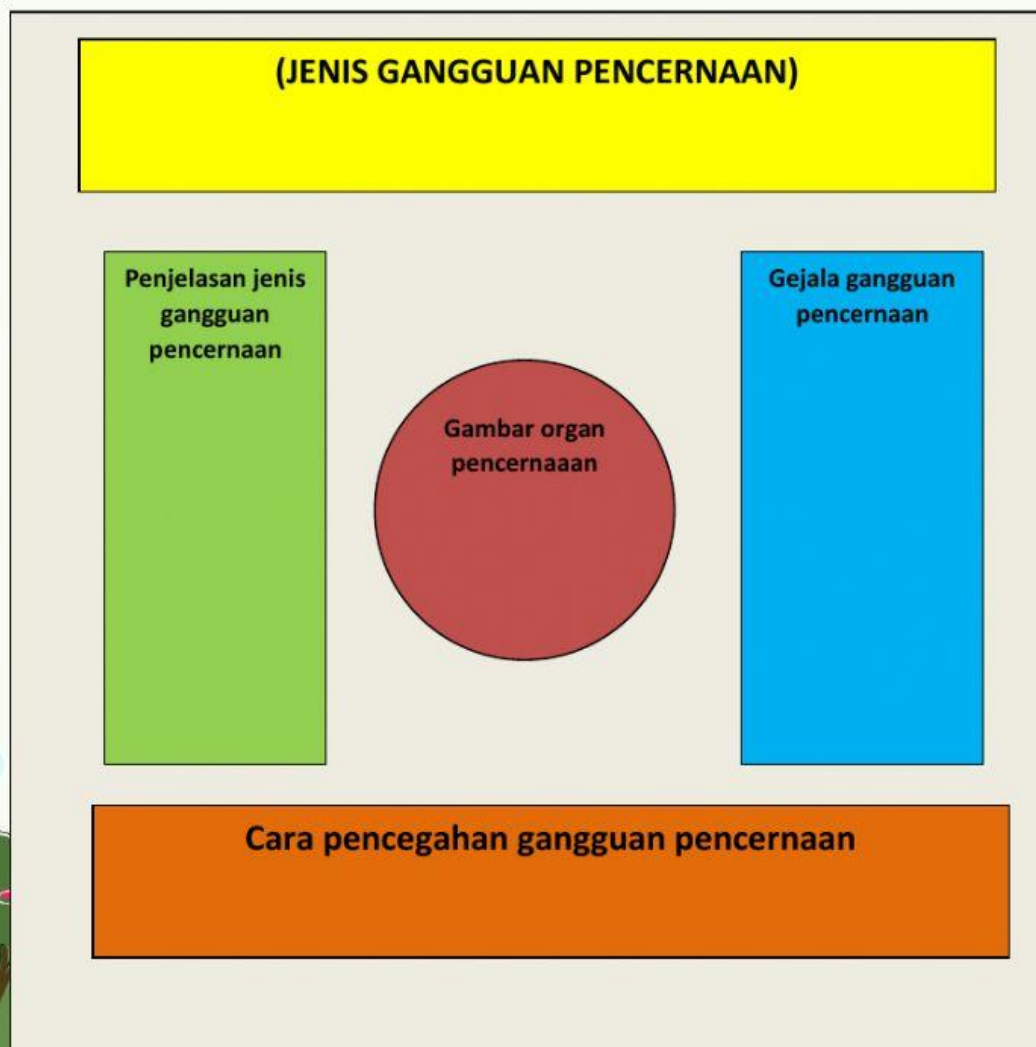
No	Jenis gangguan pencernaan	Organ yang terganggu	Gejalanya
1	Diare		
2	Maag		
3	Sembelit		



KEGIATAN KETIGA

Menjadi Penyuluh Kesehatan

1. Kamu akan menjadi penyuluh kesehatan yang memberikan penyuluhan tentang pencegahan dan penanggulangan gangguan organ pencernaan.
2. Ikuti langkah kerja berikut ini :
 - a. Pilihlah salah satu gangguan /penyakit yang menyerang organ pencernaan manusia.
 - b. Carilah informasi tentang definisi dari gangguan/penyakit tersebut, gejala - gejala yang ditimbulkannya, cara pencegahan, dan cara penanggulangannya.
 - c. Sajikan informasi tersebut dalam bentuk poster yang nantinya akan kamu gunakan untuk kegiatan penyuluhan
 - d. Lakukan penyuluhan kesehatan kepada teman-temanmu
 - e. Jelaskan dengan lengkap dan menarik tentang informasi-informasi yang kamu miliki.






3. Lengkapilah format kerja berikut ini dalam pembuatan poster pencegahan gangguan pencernaan manusia!

A. Tujuan Proyek

A large, empty rectangular box with a black border, intended for the student to write the purpose of the project.

B. Alat dan Bahan

A large, empty rectangular box with a black border, intended for the student to write the tools and materials needed for the project.




Blank area for writing the steps (Langkah Kerja).

D. Pilih salah satu gangguan pencernaan, apa yang kamu ketahui tentang gangguan tersebut?

Blank area for writing the answer to question D.

E. Sebutkan gejala penyebab gangguan pencernaan

Blank area for writing the answer to question E.





Ayo Renungkan



Apa saja yang sudah kamu pelajari hari ini? Apa manfaat dari pembelajaran yang kamu peroleh hari ini? Tuliskan dalam kolom berikut.

Hasil Renungan

.....

.....

.....

.....

.....

.....

METHODS

FINAL RESULTS





DAFTAR PUSTAKA

<https://www.ruangguru.com/blog/gangguan-organ-pencernaan-manusia>

Buku Guru Kelas V, Tema 3: Makanan Sehat. Buku Tematik Terpadu Kurikulum 2013 (Revisi 2017). Jakarta: Kementerian Pendidikan dan Kebudayaan

Buku Peserta didik Kelas V, Tema 3: Makanan Sehat. Buku Tematik Terpadu Kurikulum 2013 (Revisi 2017). Jakarta: Kementerian Pendidikan dan Kebudayaan

