



I.E. Gerardo Arias Copaja

Miss Lita. 1°A Miss Regina 1°B y Miss Ruth 1°C.

Leemos.

Adriana compró 23 orquídeas  y 32 orquídeas . ¿Qué color de orquídea compró menos?

a. Contestamos.

• ¿Cuántas  compró Adriana?

• ¿Cuántas  compró Adriana?

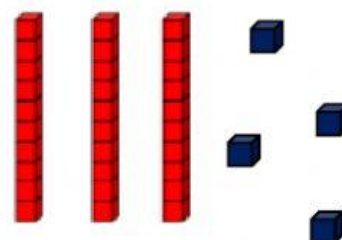
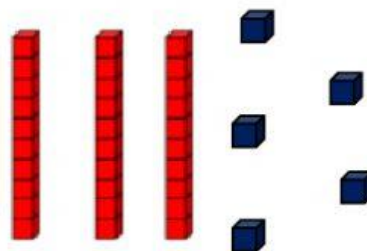
b. Representamos con material base diez el número de



y



.





c. Completamos con los números 23 y 32.

es mayor que

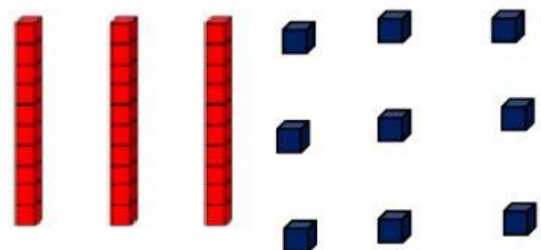
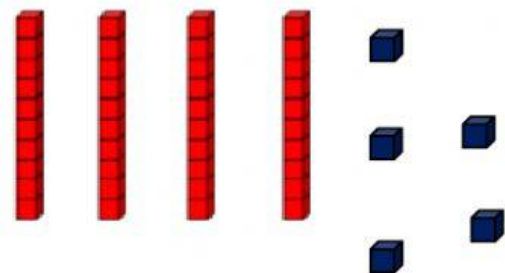

Leemos.

Adriana dibujó mariposas como las que vio en el bosque de Sho'llet. ¿Qué color de mariposa dibujó más?

a. Formamos grupos de 10 y escribimos la cantidad.



b. Representamos con material base diez la cantidad de mariposas.



c. Señalamos con un visto .

- Adriana dibujó menos mariposas

