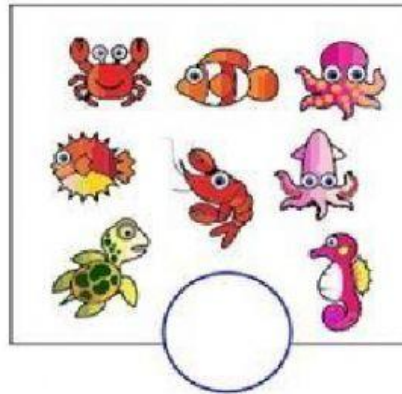
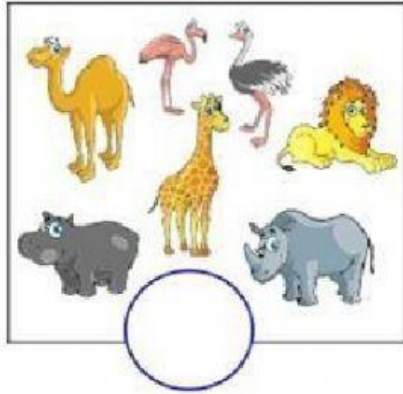


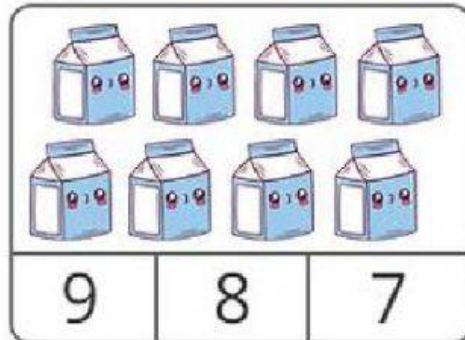
Matemáticas




1.- Selecciona el recuadro con **menos** animales.



2.- Cuenta y elige la cantidad de dibujos que hay.



3.- Elige la figura que le falta a la bandera





4.- ¿Cuál de los objetos es más largo? Selecciona el objeto **más largo**.



5.- ¿Cuál de los objetos es más largo? Selecciona el objeto **más corto**.

