

OPERACIONES COMBINADAS DE SUMAR Y RESTAR

$300 - 200 + 100$

$100 + 100 = 200$

**Observa como en el ejemplo se resuelven las operaciones en el orden en que aparecen**

### 1. Ahora te toca resolver a ti.

<p><b>1)</b> <math>50 - 40 + 45</math></p> <p><math>\quad \quad \quad + 45 = \quad</math></p>	<p><b>2)</b> <math>400 - 100 + 200</math></p> <p><math>\quad \quad \quad + 200 = \quad</math></p>
<p><b>3)</b> <math>150 + 50 - 90</math></p> <p><math>\quad \quad \quad - 90 = \quad</math></p>	<p><b>4)</b> <math>200 + 300 - 400</math></p> <p><math>\quad \quad \quad - 400 = \quad</math></p>
<p><b>5)</b> <math>600 - 300 + 200</math></p> <p><math>\quad \quad \quad + 200 = \quad</math></p>	<p><b>6)</b> <math>700 - 200 + 50</math></p> <p><math>\quad \quad \quad + 50 = \quad</math></p>

## 2. Resuelve las operaciones y une los resultados

$60 + 500 - 400 =$ <input type="text"/>	•	•	<input type="radio"/> Doscientos diez
$470 - 200 + 30 =$ <input type="text"/>	•	•	<input type="radio"/> Ciento sesenta
$100 + 650 - 250 =$ <input type="text"/>	•	•	<input type="radio"/> Trescientos
$380 - 50 - 120 =$ <input type="text"/>	•	•	<input type="radio"/> Quinientos
$120 + 50 - 80 =$ <input type="text"/>	•	•	<input type="radio"/> Noventa

## APROXIMACIÓN A LAS UM



- El número 7200 está entre 7000 y 8000.

Observa la recta numérica y comprueba que la UM más próxima al número 7.200 es 7.000

### 3. Completa la tabla

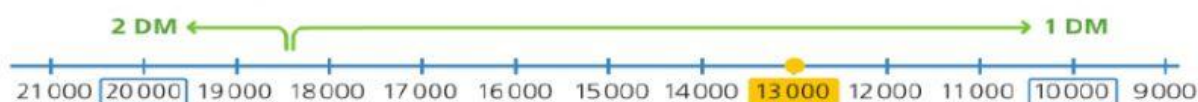
UNIDA DE MILLAR ANTERIOR	NÚMERO	UNIDA DE MILLAR POSTERIOR	UNIDA DE MILLAR MÁS PRÓXIMA
	6.300		
	2.800		
	5.100		
	4.710		

### 4. ¿Cuántas personas han participado, aproximadamente, en la maratón?



- 2 000
- 3 000
- 4 000
- 5 000
- 6 000

## APROXIMACIÓN A LAS DM



- El número 13000 está entre 10000 y 20000.

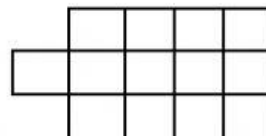
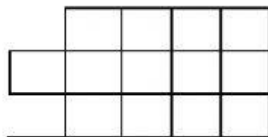
Observa la recta numérica y comprueba que la DM más próxima al número 13.000 es 10.000

## 5. Completa la tabla

DECENA DE MILLAR ANTERIOR	NÚMERO	DECENA DE MILLAR POSTERIOR	DECENA DE MILLAR MÁS PRÓXIMA
	<b>36.500</b>		
	<b>27.000</b>		
	<b>72.700</b>		
	<b>14.810</b>		

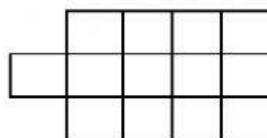
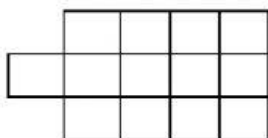
6- En un tren había 200 personas. Al llegar a la estación bajaron 95 y subieron al tren 30. ¿Cuántas personas iban en el tren al salir de la estación?

Operaciones



Solución:

7.- En la función de circo había 175 personas. Estaban 50 niños y 75 niñas. ¿Cuántos adultos había en la función?



Operaciones



Solución: