



ESCUELA DE EDUCACIÓN GENERAL BÁSICA "ECUADOR"

Dirección: Plaza Gutiérrez entre Sucre y Luis Freile. 03-13-009. Telf. 2365-084.

EVALUACIÓN DIAGNÓSTICA DEL ÁREA DE CIENCIAS NATURALES

DATOS INFORMATIVOS:

- NOMBRE DEL ESTUDIANTE:
- AÑO BASICA:
- FECHA:

ACTIVIDADES

- 1) OBSERVA LA PIRÁMIDE ALIMENTICIA Y ARRASTRA CADA IMAGEN AL LUGAR CORRESPONDIENTE

Grasas y dulces

Lácteos

Carnes

Verduras

Frutas

Cereales, pasta y panes

Beber mucha agua

Hacer deporte

Activar Win
Ir a Configurac

2) OBSERVA Y UNE CON LINEAS LAS ETAPAS DEL DESARROLLO HUMANO CON SU RESPECTIVA IMAGEN

	INFANCIA
	ADULTEZ
	ANCIANIDAD
	PRENATAL
	ADOLESCENCIA
	NIÑEZ
	JUVENTUD

3) OBSERVE ATENTAMENTE LOS SIGUIENTES EJEMPLOS Y SEÑALE SI SE TRATA DE UNA PLANTA ANGIOSPERMA O GIMNOSPERMA



LIMONERO

ANGIOSPERMA

GIMNOSPERMA



EUCALIPTO

ANGIOSPERMA

GIMNOSPERMA



PINO SILVESTRE

ANGIOSPERMA

GIMNOSPERMA



MANZANO

ANGIOSPERMA

GIMNOSPERMA

4) UNA LA IMAGEN CORRESPONDIENTE SEGÚN CORRESPONDA



•

• Carroñeros



•

• Omnívoros



•














• Carnívoros



•

• Herbívoros


5) OBSERVE LAS IMÁGENES Y ARRASTRE A SU LUGAR DE HABITAT QUE CORRESPONDA

6) INDICA SI LOS SIGUIENTES ANIMALES SON VERTEBRADOS O INVERTEBRADOS

Lagartija	<input type="checkbox"/> Vertebrado	<input type="checkbox"/> Invertebrado
Escarabajo	<input type="checkbox"/> Vertebrado	<input type="checkbox"/> Invertebrado
Atún	<input type="checkbox"/> Vertebrado	<input type="checkbox"/> Invertebrado
Libélula	<input type="checkbox"/> Vertebrado	<input type="checkbox"/> Invertebrado
Avestruz	<input type="checkbox"/> Vertebrado	<input type="checkbox"/> Invertebrado
Pulga	<input type="checkbox"/> Vertebrado	<input type="checkbox"/> Invertebrado
Hormiga	<input type="checkbox"/> Vertebrado	<input type="checkbox"/> Invertebrado
Elefante	<input type="checkbox"/> Vertebrado	<input type="checkbox"/> Invertebrado

7) COLOQUE LAS PARTES DE LA PLANTA DONDE CORRESPONDA



HOJAS

FLORES

FRUTO

RAIZ

TALLO

8) SELECCIONE LA RESPUESTA CORRECTA

El sol es...

Un planeta

una estrella.

El sol da...

luz y calor.

energía.

La Tierra es

Un planeta

una estrella.

Los planetas y astros giran...

Alrededor de la luna

alrededor del sol.

Nuestra galaxia se llama...

Universo.

Vía Láctea.

Los planetas tienen forma...

Redonda

espiral.

Los planetas están siempre...

Moviéndose.

quietos.

La tierra tarda un año en..

Dar la vuelta al sol.

en girar sobre sí misma.

La tierra tarda en girar sobre si misma...

365 días,

1 día.

9) SELECCIONE EL NOMBRE DE CADA PLANETA



10) UNA CADA IMAGEN CON LA ESTACION CORRESPONDIENTE

Las aves migran a zonas más cálidas.



INVIERNO

Los árboles florecen.



VERANO

Las temperaturas son más bajas. Las familias pasan más tiempo en casa.



OTOÑO

Los días son más largos.



PRIMAVERA

