




Agrego o quito para igualar

1.- Escribe cuántos  agregar para 

a.






d.






b.





e.





c.





f.





2.- Escribe cuántos  quito para 

a.



d.



b.



e.



c.



f.



3.- Piensa y selecciona la respuesta correcta.

¿Cuál de los siguientes números puede completar la relación $15 > \square$?

- a) 13 b) 15 c) 17 d) 19

¿Cuál de los siguientes números puede completar la relación $29 < \square$?

- a) 27 b) 28 c) 29 d) 30

¿Cuál de los siguientes números puede completar la relación $15 = \square$?

- a) 13 b) 14 c) 15 d) 16

¿Cuál de los siguientes números puede completar la relación $34 > \square$?

- a) 33 b) 34 c) 35 d) 36

4.- Escribe el número y marca.

a.



igual

desigual



b.



igual

desigual



c.



igual

desigual

