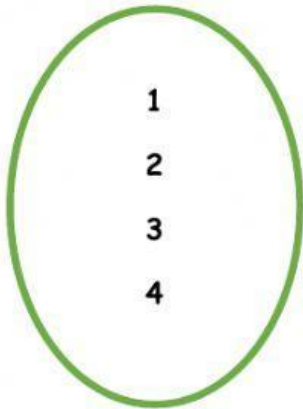
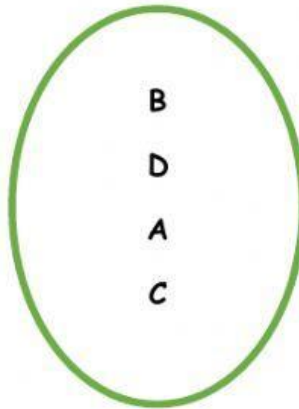


RELACIONE LOS ELEMENTOS DEL **CONJUNTO DE SALIDA** CON EL CONJUNTO **DE LLEGADA** Y REPRESENTE LOS PARES ORDENADOS.



Conjunto de salida



Conjunto de llegada

(), (), (), (), ()




Conjunto de salida



Conjunto de llegada

(), ()



Conjunto de Llegada

$$), (\quad)$$