


ใบกิจกรรมเสริมทักษะ เรื่อง การหาพื้นที่รูปเรขาคณิต

ชื่อ - สกุล ชั้น เลขที่


ด้าน × ด้าน หรือ $1/2 \times$ ผลคูณของเส้นทแยงมุม	กว้าง × ยาว	$1/2 \times$ ผลคูณของเส้นทแยง
$1/2 \times$ ฐาน × สูง	ฐาน × สูง หรือ $1/2 \times$ ผลคูณของเส้นทแยง	ฐาน × สูง
πr^2		
$1/2 \times$ เส้นทแยงมุม × ผลบวกของเส้นกึ่ง		



พื้นที่ ขนเมเบียกปูน



พื้นที่ ผืนผ้า



พื้นที่ ด้านขนาน




พื้นที่ รูปวาว



พื้นที่ จัตุรัส



พื้นที่ คางหมู



พื้นที่รูปวงกลม