



COLEGIO SANTO TOMÁS MORO
BIMESTRAL GRADO TERCERO
PERIODO III

Bimestral grado 3

1. Los nómadas eran individuos que se desplazaban continuamente a fin de asegurar su subsistencia, así mismo construían sus viviendas de:

- A. cueros de animales
- B. Madera y piedras
- C. Bahareque y palmas
- D. Ladrillo y cemento

2. Los pueblos sedentarios se dedicaban a:

- A. la agricultura, a la caza y cultivo de cereales
- B. recolección, a la caza y a la pesca
- C. la agricultura, ganadería, y cultivo de cereales
- D. Pesca, agricultura y caza

3. Nombra tres bienes y tres servicios

4. Escribe si la opción es falsa o verdadera

- Un servicio es tangible ()
- Un bien requiere de material ()
- Un ejemplo de servicio es comida, ropa y carro ()
- Un bien es intangible
- Un bien y un servicio son mercancías, objetos y actividades que buscan satisfacer las necesidades de las personas ()

5. Las primeras civilizaciones antiguas fueron:

- A. Antigua África, Antigua Grecia y Antigua Roma
- B. Mesopotamia, Antiguo Egipto, Antigua Europa y Antigua Roma
- C. Mesopotamia, Antiguo Egipto, Antigua Grecia y Antigua Roma
- D. Mesopotamia, Antigua Grecia y Antigua Roma

6. Identifica cada característica y colorea así:

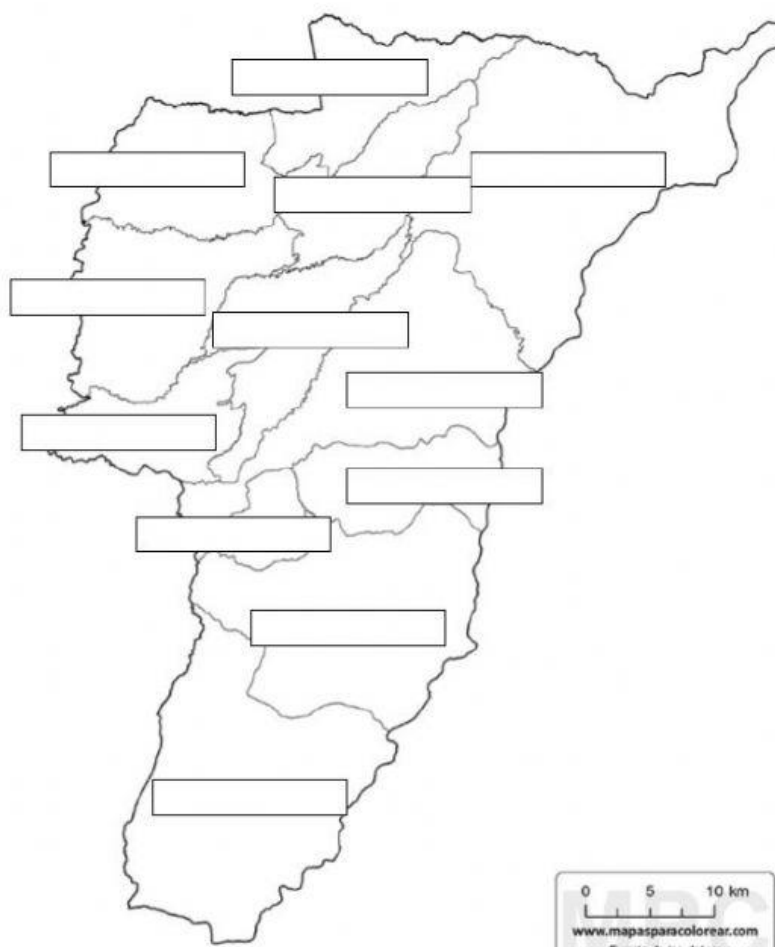


COLEGIO SANTO TOMÁS MORO
BIMESTRAL GRADO TERCERO
PERIODO III

- * Amarillo si pertenece a Egipto
- * Morado si pertenece a Mesopotamia
- * Azul si pertenece a Grecia
- * Verde: si pertenece a Roma

Entre dos ríos	Faraón	Polis	Grandes arquitectos	Ur, Uruk y Lagash
Ciudadanos y no ciudadanos	Tigris y Éufrates	Escritura	desierto	Rómulo y Remo
Nilo	Olimpiadas	Pirámides	Democracia	Casas de ladrillo y hormigón
sacerdote	Unión de pueblo de Italia	filosofía	emperador	momias

7. A Escribe en el siguiente mapa los municipios del departamento del Quindío





COLEGIO SANTO TOMÁS MORO
BIMESTRAL GRADO TERCERO
PERIODO III

B. Escribe en el cuadro las capitales de los departamentos de Colombia

DEPARTAMENTO	CAPITAL	DEPARTAMENTO	CAPITAL
Amazonas		Antioquia	
Arauca		Atlántico	
Bolívar		Caquetá	
Caldas		Cauca	
Casanare		Córdoba	
Cesar		Choco	
Cundinamarca		Guajira	
Guainía		Magdalena	
Guaviare		Nariño	
Huila		Putumayo	
Meta		Risaralda	
N. de Santander		Santander	
Quindío		Tolima	
San Andrés		Vaupés	
Sucre		Valle del Cauca	
Boyacá		Vichada	

A. Observa el siguiente mapa y escribe el numero según corresponda



CONTINENTES	OCEANOS
1 ASIA	1 OCEANO ÁRTICO
2 EUROPA	2 OCEANO ATLÂNTICO
3 ÁFRICA	3 OCEANO PACÍFICO
4 OCEANIA	4 OCEANO ÍNDICO
5 AMÉRICA	5 OCEANO ANTÁRTICO
6 ANTÁRTICA	

B. ¿Cuántos continentes hay en el planeta? ¿Cuáles son?



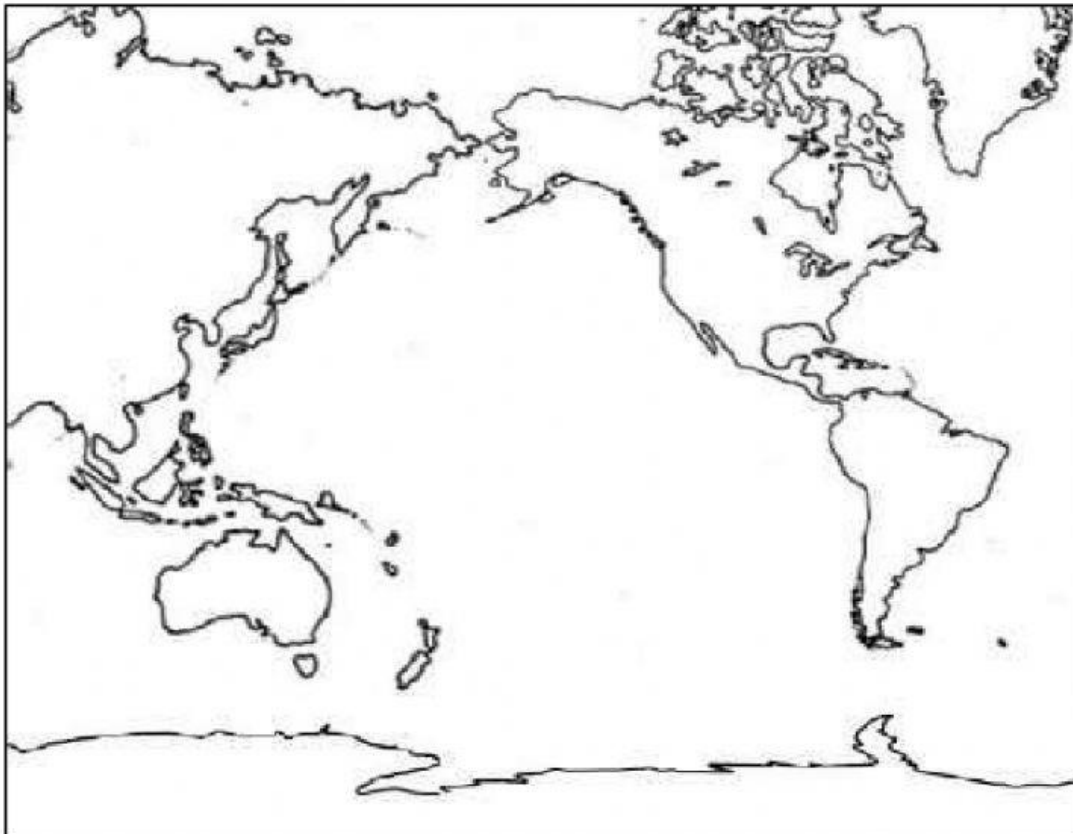
COLEGIO SANTO TOMÁS MORO
BIMESTRAL GRADO TERCERO
PERIODO III

- ¿Cuál es el continente más extenso? y ¿cuál es el menos extenso?

- ¿Cuál es el continente que presenta mayor cantidad de países?

C. Responde si el enunciado es falso o verdadero




- EL pacífico es el océano más extenso ()
 - El océano atlántico baña las costas meridionales de Asia y Australia y las orientales de África ()
 - El segundo de mayor extensión. Baña las costas occidentales de Europa y África y las orientales de América ()
9. Establece las rutas del poblamiento de América, en el siguiente mapa y escribe sus nombres





COLEGIO SANTO TOMÁS MORO
BIMESTRAL GRADO TERCERO
PERIODO III

10. Escribe en cada espacio la teoría del poblamiento de América con su respectivo autor y su definición.

TEORÍAS DEL POBLAMIENTO DE AMÉRICA		
<div></div>	<div></div>	<div></div>
		
Autor:	Autor:	Autor:
<div></div>	<div></div>	<div></div>
Afirma:	Afirma:	Afirma:
<div></div>	<div></div>	<div></div>