






ROTACIÓN DE FIGURAS


Marca la alternativa correcta:


Si Álvaro empuja el triángulo por las escaleras ¿Cómo quedara la posición de la letra "B" en el 3° escalón?



a. 

b. 

c. 

d. 

Observa la imagen y marca la posición de rotación en la que se encuentra:

