

NIVEL:	BÁSICA	ÁREA: SOCIALES	ASIGNATURA: ESTUDIOS SOCIALES	AÑO LECTIVO
CURSO / AÑO EGB/BGU:	4 TO	GRUPOS/PARALELOS:	A-B	2021-2022
DOCENTE: PSIC. AMBAR LASCANO				
INDICADORES ESENCIALES DE EVALUACIÓN: I.CS.2.1.2. Identifica los derechos y responsabilidades de los niños y niñas en espacios familiares, escolares y en su ejercicio ciudadano, explica la importancia que tienen la escuela y la comunidad para fomentar las relaciones humanas, el aprendizaje y su desarrollo como ciudadano responsable.				
ESTUDIANTE:				FECHA:

DESTREZAS CON CRITERIOS DE DESEMPEÑO	ITEMS	VALOR
CS.2.1.4. Reconocer la importancia de la escuela a partir de la investigación de sus orígenes fundacionales, la función social que cumple, sus características más sobresalientes (nombre, símbolos, entre otros) y su aporte a la comunidad.	<p>1) -Escoge la respuesta correcta.</p> <p>-Choose the correct answer.</p> <ul style="list-style-type: none"> La unión de parroquias forma los: <div style="display: flex; justify-content: space-around; align-items: center;"> <div style="border: 1px solid black; padding: 5px; margin: 5px;">Barrios</div> <div style="border: 1px solid black; padding: 5px; margin: 5px;">Cantones</div> <div style="border: 1px solid black; padding: 5px; margin: 5px;">País</div> </div> <ul style="list-style-type: none"> ¿Qué figura en forma estrellada señala los puntos cardinales y colaterales? <p>a) La rosa de los vientos. b) Los puntos cardinales.</p>	3
CS.2.3.4. Identificar los derechos y responsabilidades de los niños y niñas mediante la participación en espacios familiares, escolares y en su ejercicio ciudadano.	<ul style="list-style-type: none"> ¿Qué aprendes en la escuela? <p>a) Hacer excavaciones. b) Armar y desarmar cohetes. c) A leer y escribir.</p>	
CS.2.3.6. Participar en acciones de		1

cooperación, trabajo solidario y reciprocidad (minga, randi-randi) y apreciar su contribución al desarrollo de la comunidad, ejemplificándolas con temas de seguridad vial y desastres naturales.

-Este mapa representa que Ecuador está dividido en 24:



- a) Cantones
- b) Provincias
- c) Barrios

2)-Selecciona las escenas en las que se están cumpliendo las normas de convivencia del barrio.

2

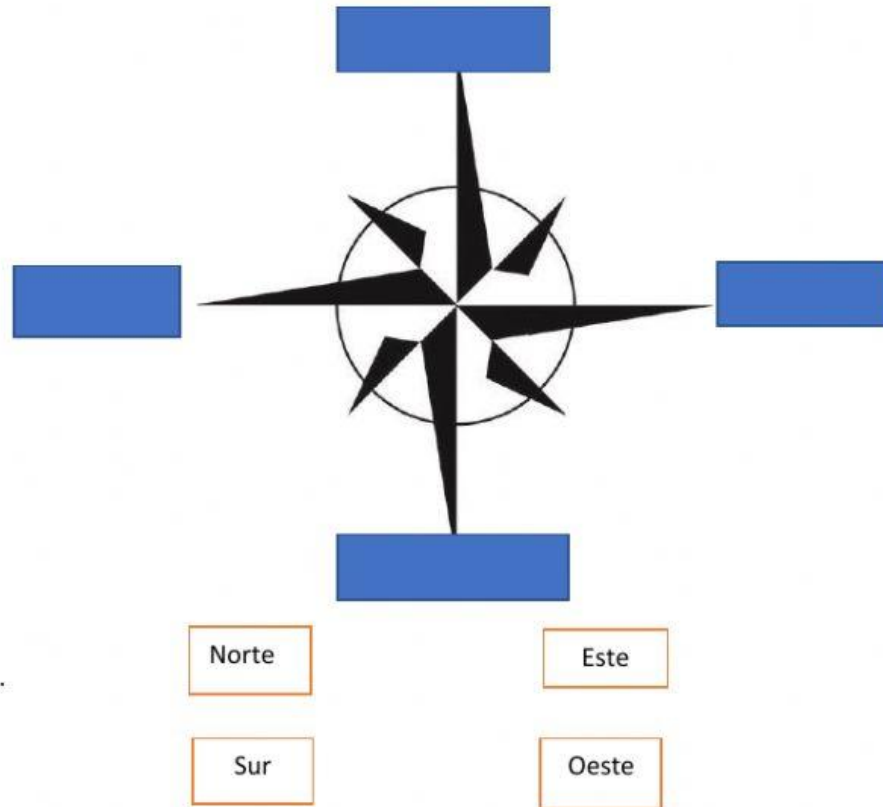
-Choose the images that represent correct actions for your neighborhood.



CS.2.2.15. Describir los medios de transporte, los servicios públicos y las vías de comunicación de la localidad, comunidad, parroquia, cantón y provincia, a partir del análisis de su impacto en la seguridad y calidad de vida de sus habitantes.

4

3)-Arrastra los puntos cardinales donde correspondan.
-Place the cardinal points where they correspond.



3

4)-Une cada semáforo con el significado de cada luz.
-Match each traffic light with the correct meaning.






Los peatones deben detenerse, esperar y los vehículos pueden conducir.



Precaución, los vehículos disminuyen la velocidad.



Los vehículos deben detenerse y los peatones ahora podrán cruzar la calle.

	<p>5)-Escoge la respuesta correcta. -Choose the correct answer.</p> <ul style="list-style-type: none"> Ecuador se encuentra ubicado en: <div style="display: flex; justify-content: space-around;"> <div style="border: 1px solid black; padding: 5px;">Asia</div> <div style="border: 1px solid black; padding: 5px;">Europa</div> <div style="border: 1px solid black; padding: 5px;">América</div> </div> <ul style="list-style-type: none"> El nombre de mi provincia es: <div style="display: flex; justify-content: space-around;"> <div style="border: 1px solid black; padding: 5px;">Manabí</div> <div style="border: 1px solid black; padding: 5px;">Guayas</div> <div style="border: 1px solid black; padding: 5px;">Azuay</div> </div> <ul style="list-style-type: none"> El nombre de la ciudad donde vivo es: <div style="display: flex; justify-content: space-around;"> <div style="border: 1px solid black; padding: 5px;">Cuenca</div> <div style="border: 1px solid black; padding: 5px;">Azuay</div> <div style="border: 1px solid black; padding: 5px;">Chordeleg</div> </div> <ul style="list-style-type: none"> La bandera de Cuenca es: <div style="display: flex; justify-content: space-around;">   </div> <p>6)-Escoge el continente donde está ubicado Ecuador. -Choose the continent where Ecuador is located.</p> 	<p>4</p> <p>1</p>
TOTAL		18
EQUIVALENCIA (10/10)		/10

ELABORADO	VALIDADO	VISTO BUENO
DOCENTE: Psic. Ambar Lascano	DIRECTOR(A) DE ÁREA: Mgt. Marcelo Criollo	VICERRECTOR(A)/SUBDIRECTOR(A): Ing. Sandra Jara
Firma:  Fecha: 29-08-2021	Firma: 	Firma:

Fecha: 30-08-2021



Fecha: