

UNIDAD EDUCATIVA PARTICULAR "LA PRESENTACIÓN"  
"Formamos para Humanizar"  
AÑO LECTIVO 2020-2021

PRUEBAS DE DIAGNÓSTICO

MATEMÁTICA

NOMBRE: \_\_\_\_\_ CURSO: TERCERO DE BASICA

**INDICACIONES GENERALES:**

1. La evaluación dura 60 minutos.
2. Lea detenidamente cada pregunta y conteste.
3. Ante cualquier intento de copia, se aplicará el Reglamento de la LOEI

**IDENTIFIQUE EL LITERAL CORRESPONDIENTE**

Aplicar patrones numéricos contando hacia adelante y hacia atrás. **M.2.1.3.**

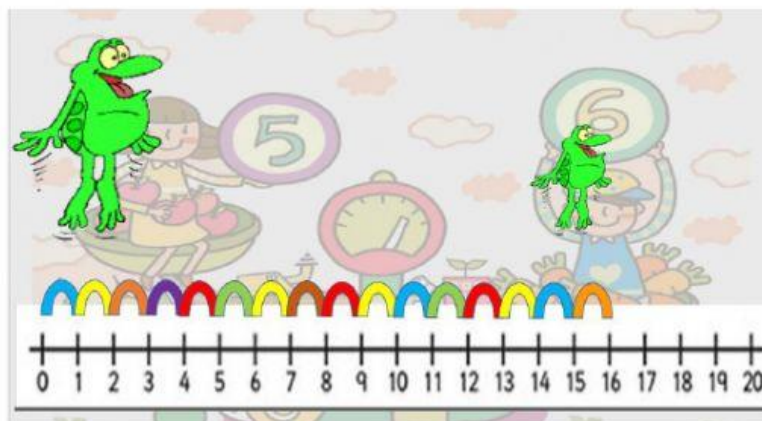
1. ¿Qué numerales faltan en la siguiente serie?

<b>1</b>	<b>2</b>	<b>3</b>		<b>5</b>
<b>6</b>		<b>8</b>	<b>9</b>	<b>10</b>
<b>11</b>	<b>12</b>	<b>13</b>	<b>14</b>	
<b>16</b>	<b>17</b>		<b>19</b>	<b>20</b>

2. ¿Esta serie se encuentra en forma?



3. ¿Cuántos saltos está dando la ranita en la recta numérica?



SELECCIONE LA RESPUESTA CORRECTA

Relacionar la noción de adición y sustracción y sus términos. (M.2.1.19)


4. ¿Cuáles son los términos de la suma?

$$\begin{array}{r} 5 \rightarrow \\ + 2 \rightarrow \\ \hline 7 \rightarrow \end{array}$$

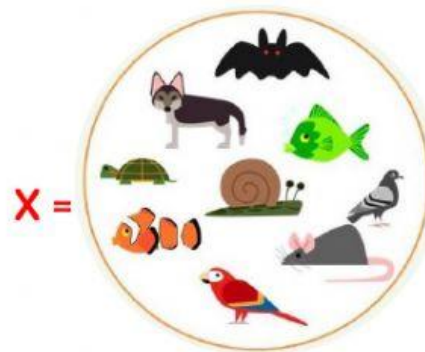
5. Identifique la clasificación de los animales según la forma de nacer.

$$\begin{array}{r} 7 \rightarrow \\ - 2 \rightarrow \\ \hline 5 \rightarrow \end{array}$$

6. Identifique en qué conjunto hay mayor cantidad de elementos y cual tienen menor cantidad de elementos.



Conjunto B:

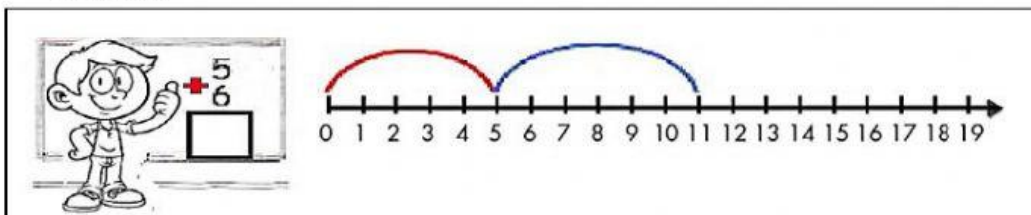


Conjunto X:


### COMPLETE

Realizar adiciones y sustracciones con los números, con material concreto, mentalmente, gráficamente y de manera numérica. (M.2.1.21)

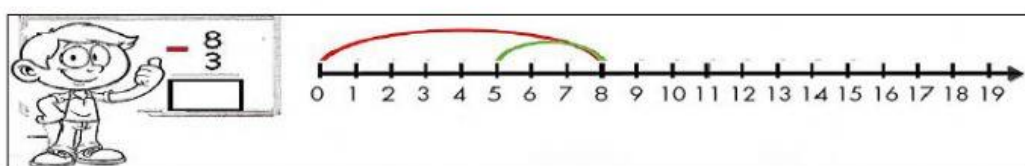
7. Realice la siguiente operación en la semirrecta y seleccione la respuesta correcta.



8. Realice la siguiente operación en la semirrecta y seleccione la respuesta correcta.




9. Realice la siguiente operación en la semirrecta y seleccione la respuesta correcta.



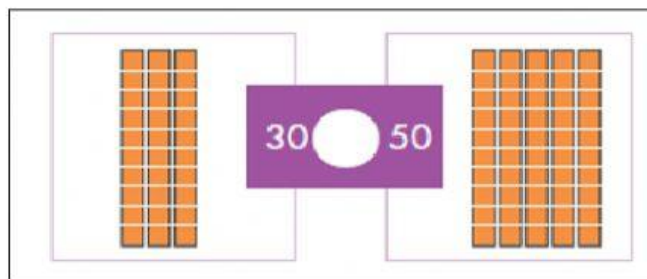
**ESCOJA LA RESPUESTA CORRECTA.**

Reconocer el valor posicional de números naturales de hasta dos cifras, basándose en la composición y descomposición de unidades, decenas, mediante el uso de material concreto y con representación simbólica. (M.2.1.14.)

**10. Identifique el signo que corresponde.**



**11. Identifique el signo que corresponde.**



**12. Identifique el signo que corresponde.**



**ESCOJA LA RESPUESTA CORRECTA.**

Contar cantidades del 0 al 99 para verificar estimaciones (en grupos diez en diez). (Ref. M.2.1.13.)

**13. Escoja el nombre del siguiente numeral.**



14. Realice la siguiente resta y seleccione la respuesta correcta.

$$\begin{array}{r} 94 \\ - 61 \\ \hline \end{array}$$

15. Realice la siguiente suma y seleccione la respuesta correcta.

$$\begin{array}{r} 57 \\ + 32 \\ \hline \end{array}$$

**FIRMAS DE RESPONSABILIDAD:**

ELABORADO	REVISADO	APROBADO
<b>DOCENTE:</b> Lic. Viviana Cordova	<b>COORDINADOR DEL ÁREA:</b> Lic. Luis Muñoz	<b>VICERRECTORADO:</b> MSc. Andrea Segura
<b>Firma:</b> 	<b>Firma:</b>  LUIS MARCELO MUÑOZ	<b>Firma:</b> 
<b>Fecha:</b> 22/7/2021	<b>Fecha:</b> 23/7/2021	<b>Fecha:</b> 26/7/2021