


# Unidad Educativa “República Federal Suiza”

## Evaluación diagnóstica de matemática

1. Escribe el número representado.



a.



b.



c.

2. Escucha y marca los números que se te indican.

1	2	3	4	5	6	7	8
9	10	11	12	13	14	15	16
17	18	19	20	21	22	23	24
25	26	27	28	29	30	31	32
33	34	35	36	37	38	39	40
41	42	43	44	45	46	47	48
49	50						

3. Selecciona los signos según corresponda mayor que,  $>$  menor que  $<$  o igual que  $=$

13

8

57

75

25

52

83

83

6

46

19

15

4. Escriba el número anterior, posterior y entre según corresponda.

	15	
--	----	--

26		28
----	--	----

	40	41
--	----	----

69		71
----	--	----

78	79	
----	----	--

11		
----	--	--

5. Descomponga los siguientes números

a. 

26
----

--

 D + 

--

 U = 

--

 + 

--

b. 

65
----

--

 D + 

--

 U = 

--

 + 

--

c. 

83
----

--

 D + 

--

 U = 

--

 + 

--

6. Arrastre el número con su escritura

15	
37	
90	
63	
59	

Noventa

Quince

Sesenta y tres

Cincuenta y nueve

Treinta y siete

**7. Realice las siguientes sumas**

a.

	4	5
+	2	3
<hr/>		

b.

	3	6
+	5	2
<hr/>		

c.

	7	4
+	1	9
<hr/>		

**8. Efectúe las siguientes restas**

a.

	6	7
-	3	2
<hr/>		






b.

	8	9
-	4	5
<hr/>		

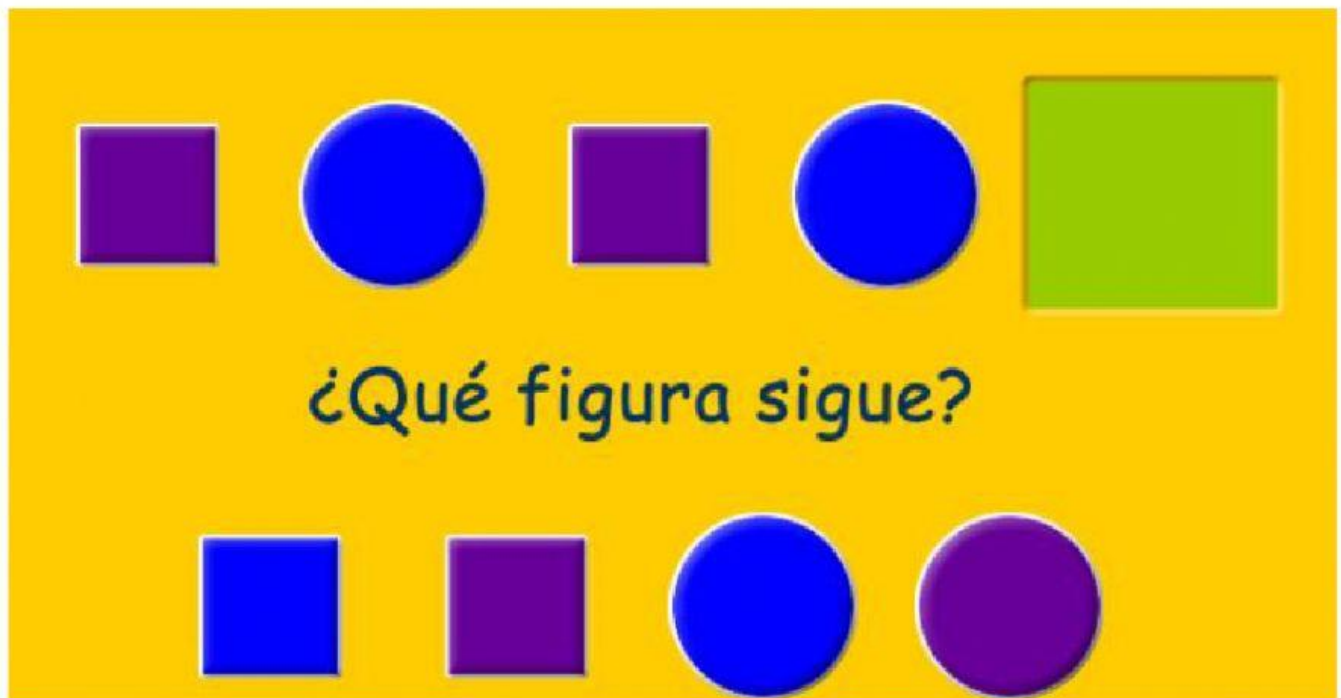
c.

	9	4
-	8	1
<hr/>		

**9. Una las figuras geométricas con su respectivo nombre**

	Triángulo
	Cuadrado
	Círculo
	Óvalo
	Rectángulo

10. Seleccione la figura que continúa la secuencia



11. Marque los objetos que sean más livianos

