

LEMBAR KERJA PESERTA DIDIK (LKPD)

NAMA:

LEMBAR KERJA PESERTA DIDIK 1

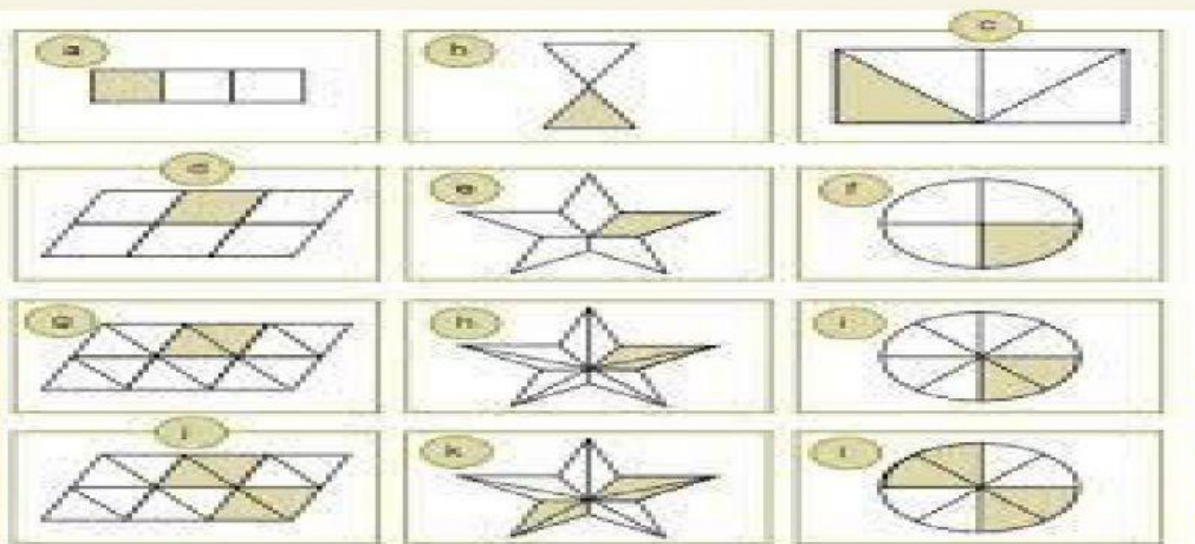
Petunjuk mengerjakan LKPD:

1. Tulislah nama lengkapmu.
2. Tulis hasil pengamatanmu pada lembar yang telah disediakan.

Dari gambar 1: tentukan bentuk pecahan yang kamu temukan dari masing-masing gambar, lalu tentukan pecahan mana saja yang menunjukkan pecahan senilai

Dari gambar 2: tentukan bentuk pecahannya jika 2 potong buah apel dimakan.

Gambar 1




A	B.	C.
D.	E.	F.
G.	H.	I

J.





K.



L.



Gambar 2:



LEMBAR KERJA PESERTA DIDIK 2

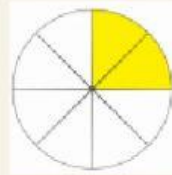
Kelas/ Semester : IV (Empat)/ 1 (Satu)
Muatan Pelajaran : Matematika
Tanggal :
Kegiatan : Menentukan pecahan-pecahan
senilai sesuai gambar

PETUNJUK MENERJAKAN!

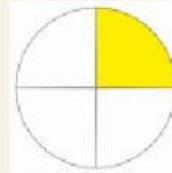
1. Pasangkan pecahan-pecahan berikut sesuai gambar.

SOAL

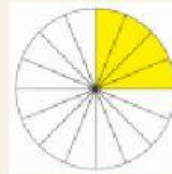
$$\frac{1}{4}$$



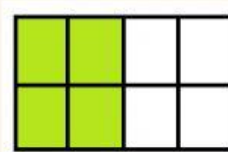
$$\frac{4}{16}$$



$$\frac{2}{8}$$



$$\frac{1}{2}$$



$$\frac{4}{8}$$

