

Nombre:

Nº

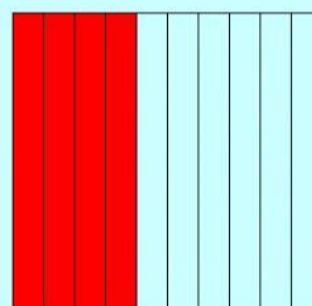
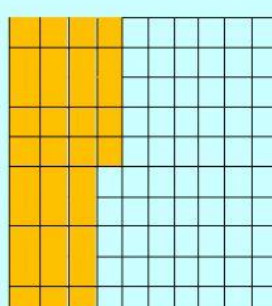
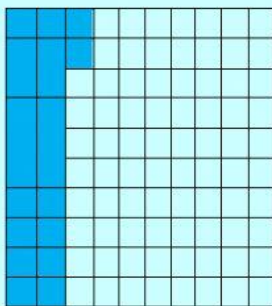
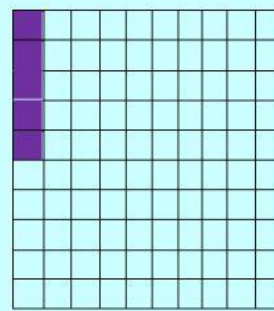


Fecha:

4to grado:

Sabías que...
...los números decimales nos permiten contar
cantidades que representan parte de la unidad.



1. Escribe la forma sombreada en número decimal.



2. Ubica los siguientes números en la caja de valor, recuerdo colocar el punto decimal donde corresponde y luego escribo su escritura correcta.

0.007 - 12.02 - 0.8 - 0.15

Unidad	.	décima	centésima	milésima	Lectura

3. Identifica, escribe y lee el número decimal que conforma.

$$7D + 1U + 5d + 2c =$$

$$4U + 8d =$$

$$2U + 7m =$$

$$4D + 8d + 7c =$$

4. Lee y escribe el número decimal forma.

- Veintiséis enteros, una milésima
- Doce centésimas
- Ciento setenta y dos milésimas
- Nueve enteros, dos décimas.

5. Encuentro el cociente.

8,	5	3	1	6	4