

Ôn tập 1

Câu 1: Số gồm 5 chục và 2 đơn vị được viết là:

20

52

25

Câu 2: Các số 73, 19, 42, 67 được sắp xếp theo thứ tự từ bé đến lớn là:

73, 19, 42, 67

73, 67, 42, 19

19, 42, 67, 73

Câu 3: Số 25 đọc là

hai mươi lăm

hai mươi năm

hai năm

Câu 4: Nhìn vào tờ lịch, hôm nay là ngày:

Thứ bảy, ngày 12

Thứ bảy, ngày 15

Thứ bảy, ngày 16

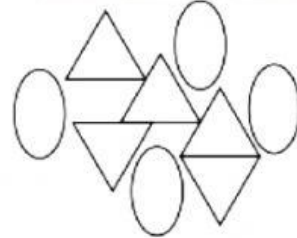


Câu 5: Hình dưới đây có bao nhiêu hình tam giác?

5 hình

6 hình

3 hình



Câu 6 Đồng hồ dưới đây chỉ:

7 giờ

6 giờ

12 giờ



Câu 7:

a) Tính nhẩm

$$10 + 10 - 10 =$$

$$80 - 40 - 20 =$$

b) Điền dấu $<$, $>$, $=$ vào chỗ chấm:

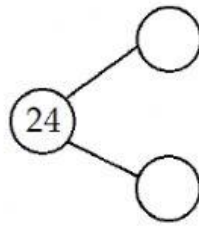
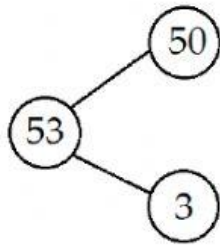
$37 + 12 \dots 53$

$45 - 23 \dots 22$

$70 - 20 \dots 50$

Câu 8: Điền số thích hợp vào ô trống (theo mẫu):

Mẫu:



Câu 9

a) Hình bên có:

.....hình tròn

.....hình tam giác



b) Điền số thích hợp vào chỗ chấm:



Bút chì có độ dài bằngcm.

Câu 10 Viết phép tính rồi nói câu trả lời:

Lớp 1A có 22 bạn học sinh nam và 20 bạn học sinh nữ. Hỏi lớp 1A có bao nhiêu học sinh?

--	--	--	--	--

Trả lời: Lớp 1A có học sinh