







Hari, Tanggal : Selasa, 7 September 2021  
Kelas/Semester : SD 2AB / 1  
Mata Pelajaran : Matematika  
Materi : Mengukur dengan alat ukur tidak baku

A. Pasangkan nama satuan tidak baku dengan gambarnya!

Hasta	Langkah	Jengkal	Depa
-------	---------	---------	------



**B. Isilah titik – titik berikut dengan jawaban yang benar!**

1. Jengkal, depa, hasta, dan langkah termasuk dalam satuan ....
2. Mengukur benda dengan menggunakan ujung jari kelingking sampai ibu jari disebut ....
3. Mengukur benda dengan **jengkal**, artinya mengukur dari ...  
sampai ....
4. Mengukur benda dengan menggunakan ujung jari tengah tangan kanan sampai ujung jari  
tengah tangan kiri disebut ....
5. Mengukur benda dengan **depa**, artinya mengukur dari ...  
sampai ....
6. Mengukur benda dengan **hasta**, artinya mengukur dari ... sampai  
....
7. Mengukur benda dengan menggunakan siku sampai ujung jari tengah disebut ....
8. Mengukur benda dengan **langkah**, artinya mengukur dari gerakan ....
9. Mengukur benda dengan menggunakan langkah kaki disebut ....
10. Mengukur panjang benda dengan satuan tidak baku, menghasilkan ukuran yang ....