



EVALUACIÓN DIAGNOSTICA DE ESTUDIOS SOCIALES
UNIDAD EDUCATIVA "OTAVALO"
AÑO LECTIVO 2021 - 2022

INDICADOR: Describe y grafica las rutas de llegada, las herramientas, las formas de trabajo colectivo y alfarería de los primeros pobladores.

1. Escoja las frases correctas sobre cómo llegaron los primeros pobladores a América.

Muchos años atrás la Tierra se congeló.
Por lo que los habitantes de otras tierras salieron en barcos y cruzaron a América.
Esto causó que los habitantes de Asia salieran de su territorio en busca de nuevas tierras.
Además causó que muchas de estas personas enfermaran y no puedan llegar a su destino.
Es así como los primeros pobladores llegaron a América cruzando el estrecho de Bering.

INDICADOR: Analiza la colonización española considerando la relación de los españoles con los indígenas, sus conflictos con la corona, el mestizaje y la llegada de los esclavos nuevos.

2. Páree según corresponda.

- | | |
|--------------|--|
| • Chapetones | • Hijos de españoles nacido en América |
| • Criollos | • Españoles que vinieron a América |
| • Mestizos | • Nativos de América |
| • Indios | • Traídos de África como esclavos |
| • Negros | • Mezcla de españoles con indios. |

INDICADOR: Analiza la colonización española considerando la relación de los españoles con los indígenas, sus conflictos con la corona, el mestizaje y la llegada de los esclavos nuevos.

3. Escoja a los actores principales de la independencia


SIMÓN BOLÍVAR



ATAHUALPA



ANTONIO JOSÉ DE SUCRE



SAN MARTÍN



HUASCAR



ABDÓN CALDERÓN





INDICADOR: Examina el proceso de imposición del proyecto andino y su influencia en la integración andina y latinoamericana actual.

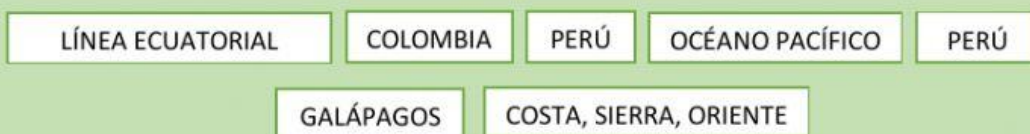
4. Escriba cuál era el sueño de Bolívar.

5. En el siguiente arrastre y ubique dentro del mapa nombres de los países que formaron parte de la Gran Colombia.



INDICADOR: Describir las regiones naturales del país, en función de sus características geográficas y mediante el uso de recursos.

6. Complete las siguientes expresiones sobre nuestro país el Ecuador, arrastrando y ubicando la palabra correcta.



- Ecuador se encuentra ubicado en la
- Ecuador se divide en 4 regiones naturales que son
y
- Ecuador limita al Norte con al sur con
al este con y al oeste con



7. Escoja la V si es verdadero o la f si es falso los siguientes enunciados relacionados con nuestro país.

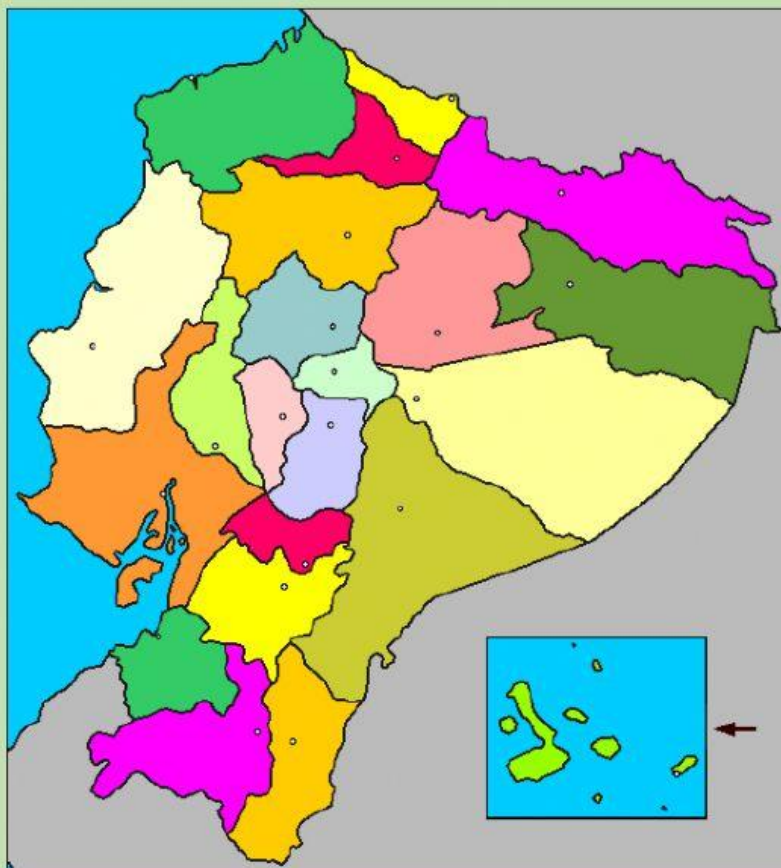
Enunciados		
El nombre de mi país es Quito.	V	F
Su puerto principal es Manta.	V	F
Sus símbolos patrios son las provincias.	V	F
Está atravesada por la cordillera de los Andes.	V	F

INDICADOR: Explicar la evolución de la organización económica y social de los primeros pobladores y sociedades agrícolas aborígenes mediante narraciones históricas con fundamento científico.

8. Una con líneas las etnias indígenas y las actividades que las caracterizan:

Huaorani	Se colocan achiote en la cabeza
Tsáchila	Su vestimenta es un hilo de lana
Shuar	Reducción de cabeza
Otavalo	Llamados huancavilcas
Montubio	Se dedican a las artesanías

9. Arrastre y ubique los parques nacionales de la lista a su respectiva provincia:



COTOPAXI

MACHALILLA

ILINIZA

GALÁPAGOS

PODOCARPUS



INDICADOR: Examina las áreas protegidas del país y lo relaciona con los efectos del calentamiento global y cambio climático, planteando actividades concretas para su protección y conservación

10. Escriba el nombre de cuatro especies animales que pertenezcan a la fauna de las islas Galápagos.