

CALCULA EL PERÍMETRO


Instrucciones: En cada caso, mediante el radio, calcula el perímetro y escribe tu resultado en las casilla.

*Solo utiliza dos decimales
En tus resultados.

$$P: 2 \cdot r \cdot \pi$$


$\pi : 3,14$

A




$r = 2.5 \text{ m}$

Perímetro




B




$r = 3.3 \text{ m}$

Perímetro




C




$r = 4.7 \text{ cm}$

Perímetro




D




$r = 7.3 \text{ m}$

Perímetro




E




$r = 2.2 \text{ m}$

Perímetro



F



$r = 4.9 \text{ mm}$

Perímetro

