

## MÓDULO DE PRÁCTICA LOS GRIEGOS DE LA ANTIGÜEDAD

Nombre: \_\_\_\_\_

Curso: Tercero Básico "....." Fecha .....del 2021



¡Te invito a conocer el legado de los griegos!

### GRECIA

**Localización:** Se sitúa al sur de la península balcánica, limita al norte con Bulgaria, la República de Macedonia y Albania. Al noreste con Turquía y al sur y al oeste con el mar Mediterráneo y el mar Jónico.

**Nombre oficial:** República Helénica

**Capital:** Atenas

**Moneda:** Euro

**Idioma:** Griego

**Geografía:** Su territorio es el más montañoso de Europa y el más fraccionado. Cuenta con más de nueve mil islas e islotes.



¿En qué lugar se ubicó la Grecia clásica?



EUROPA



La Grecia Clásica se ubicó en la Península Balcánica y en las costas del Mar Egeo.

## LA IMPORTANCIA DEL ENTORNO GEOGRÁFICO

De seguro, al observar el mapa, piensas que Grecia está muy lejana a Chile, y quizás no comprendas las razones por las que debemos estudiar a los griegos; sin embargo, aunque no lo creas, el mundo griego se relaciona de diversas maneras con tu día a día.



### ACTIVIDAD

Observen el mapa de la página anterior y completen la información, así sabrán donde vivían los griegos.

1. Como puedes ver en el mapa, los griegos se ubicaron al \_\_\_\_\_ de la península de los Balcanes, en diversas islas, archipiélagos, y en la costa de Asia Menor (en la actual Turquía).
2. Si te fijas, te darás cuenta de que el territorio de los griegos de la Antigüedad estaba rodeado de mar. Revisemos: por el oeste, el mar \_\_\_\_\_; por el sur, el mar \_\_\_\_\_. Si miramos más al Este, nos encontramos con el mar Egeo.
3. Esta ubicación privilegiada les permitió conectarse con el sur de Europa y el norte de África a través del mar \_\_\_\_\_.

En el siguiente mapa del lugar que habitaron los griegos en la antigüedad.

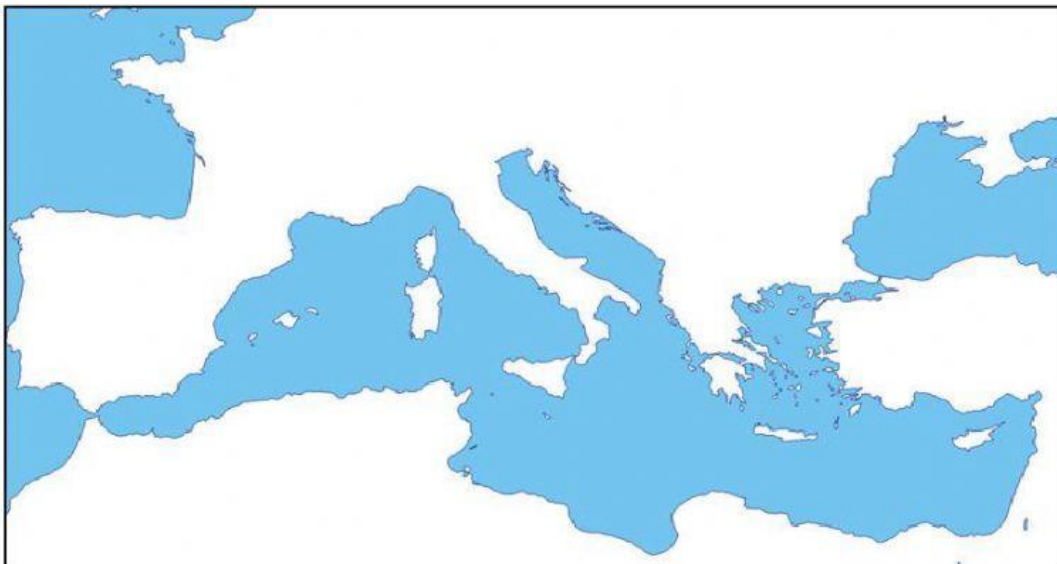
1. Identifica en mapa el continente europeo.



### ACTIVIDAD

En el siguiente mapa del lugar que habitaron los griegos en la antigüedad.

1. Identifica la península de los Balcanes.
2. Identifica el mar Mediterráneo.

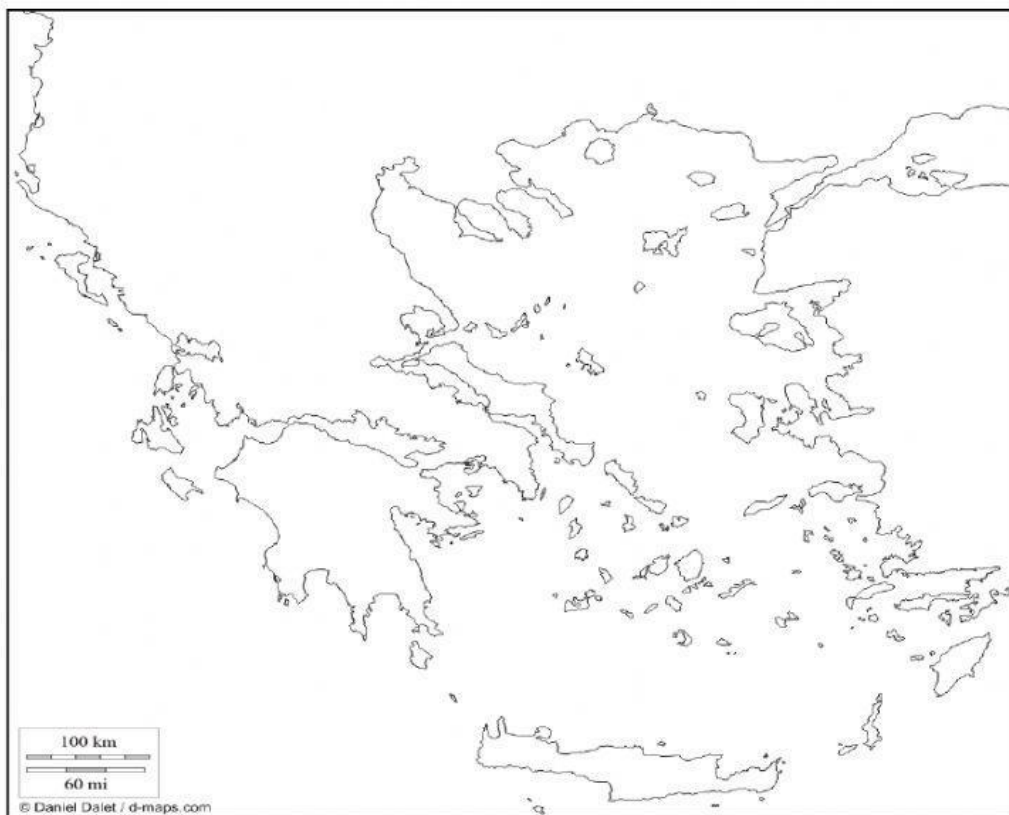




## ACTIVIDAD

En el siguiente mapa del lugar que habitaron los griegos en la antigüedad.

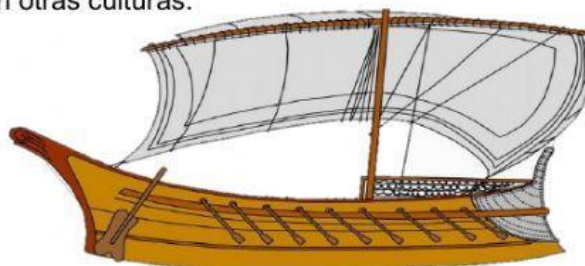
1. Identifica el mar Jónico.
2. Identifica el mar Mediterráneo.
3. Identifica el mar Egeo.
4. Identifica la Isla de Creta.



### **El mar: cuna de los griegos**

El territorio que habitaron los griegos estaba rodeado por el mar. Esto hizo que la navegación fuera más fácil y segura, ya que siempre tenían un lugar cercano donde llegar. El mar fue importante para los griegos porque de él pudieron obtener muchos alimentos: allí encontraron los recursos para vivir. Como ya sabes, el territorio que ocuparon los griegos no tenía grandes valles para cultivar o criar animales, por esta razón, buscaron en el mar el alimento necesario para su población.

Los griegos fueron grandes navegantes que recorrieron el mar Mediterráneo difundiendo su cultura, idioma y tradiciones en los lugares que visitaron. Casi todos los pueblos y ciudades de los griegos se ubicaron a orillas del mar o cerca de él; por ello se dedicaron a la pesca, obteniendo del mar diversos productos como el atún, la caballa y el esturión. También desarrollaron el comercio, lo que favoreció la comunicación y el intercambio de ideas y creencias con otras culturas.



**Entonces, ¿qué crees que comían?**

---

---

**¿Por qué fue tan importante el mar para los griegos?**

---

---



## ACTIVIDAD

Completa el siguiente párrafo sobre la importancia del mar para los antiguos griegos. Utiliza los conceptos de la columna del costado

La cercanía al _____ permitió a los antiguos griegos difundir su _____, _____ y _____ convertirse en expertos _____. Del mar obtenían diversos productos, como el _____.
--

Mar – cultura – idioma – religión – navegantes – Atún

## ACTIVIDAD

Lee las afirmaciones y haz una X en aquellas que muestran las características geográficas de los griegos:

Los griegos se ubicaron en Oceanía.	
Chile y Grecia se parecen en la cercanía que tienen con el mar.	
La civilización griega surgió en un entorno geográfico de relieve montañoso.	
Los griegos se desarrollaron en medio de la zona desértica.	
El mar Mediterráneo fue muy importante para los griegos.	
La zona climática en donde se desarrollaron los griegos es la templada.	



## ACTIVIDAD

### GRECIA Y SU ZONA CLIMATICA

Reconoce elementos fundamentales del espacio geográfico en el que se desarrollaron los griegos en la sopa de letras. Para realizar la actividad utiliza las pistas que aparecen más abajo

J	B	U	Y	T	E	A	Q	E	S	D	M	H
P	A	K	T	E	M	P	L	A	D	O	O	P
E	L	F	J	M	E	T	H	J	K	L	N	U
V	C	E	R	E	A	L	E	S	M	I	T	Y
B	A	H	K	N	D	M	N	E	G	V	A	T
J	N	J	L	C	B	A	L	V	F	A	Ñ	R
M	E	D	I	T	E	R	R	A	N	E	O	E
J	S	N	E	A	G	E	D	T	O	M	S	F
I	A	M	P	E	F	G	E	G	I	L	O	A
S	Q	D	O	T	A	E	I	K	L	I	P	C
A	C	A	F	G	C	O	M	E	R	C	I	O
D	F	V	B	Y	R	E	Y	T	U	P	O	L

1. Mar en el cual se desarrollaron los griegos y que les permitió comerciar con otros lugares. \_\_\_\_\_
2. Península en la que se desarrollaron los griegos. \_\_\_\_\_
3. Tipo de clima del lugar donde se desarrolló el mundo griego, el cual se caracteriza por ser lluvioso en invierno y caluroso en verano. \_\_\_\_\_
4. Mar que se ubica al este de la península en la que se ubicaron los griegos y que se caracteriza por tener muchas islas. \_\_\_\_\_
5. Tipo de relieve existente en la península en que se ubicaron los griegos. \_\_\_\_\_