

Quiz de multiplicaciones

Completa el valor de cada imagen.








		3	
2			2
			
9	90		































	8		
	0		
			90
5		5	45

		2	
		1	
		3	
			12
			

Comp. 2: Competencia de Regularidad, Equivalencia y Cambio	
Calcula mentalmente con rapidez y precisión todos los ejercicios de multiplicación.	5
Calcula mentalmente con rapidez y precisión la mayoría de los ejercicios de multiplicación. Tiene hasta 4 errores.	4
Presenta hasta 10 errores en los ejercicios. Resuelve las multiplicaciones directas pero no logra identificar el factor que falta, teniendo el otro factor y el resultado, en más de 5 ejercicios.	3
Requiere de más tiempo y/o apoyo para finalizar el trabajo. Presenta más de 10 errores.	2
No realiza ningún ejercicio.	1