


**UNIDA EDUCATIVA PARTICULAR GIORDANO BRUNO**  
**CIENCIAS NATURALES DÉCIMO – PRIMER QUIMESTRE**  
**PRIMER PARCIAL – TERCER TALLER**

NOMBRE:


1.- Complete el siguiente cuadro con la clasificación de la arqueas.




2.- Escoja la respuesta correcta sobre la clasificación de las bacterias según su forma.

 Tiene apariencia alargada y enrollada o helicoidal


- |          |            |                 |              |
|----------|------------|-----------------|--------------|
| a) cocos | b) bacilos | c) espiroquetas | d) espirilos |
|----------|------------|-----------------|--------------|

 Tiene forma helicoidal y presenta flagelos

- |          |            |                 |              |
|----------|------------|-----------------|--------------|
| a) cocos | b) bacilos | c) espiroquetas | d) espirilos |
|----------|------------|-----------------|--------------|

 Tiene forma de bastoncillo

- |          |            |                 |              |
|----------|------------|-----------------|--------------|
| a) cocos | b) bacilos | c) espiroquetas | d) espirilos |
|----------|------------|-----------------|--------------|

 Presenta forma esférica u ovoide

- |          |            |                 |              |
|----------|------------|-----------------|--------------|
| a) cocos | b) bacilos | c) espiroquetas | d) espirilos |
|----------|------------|-----------------|--------------|

3.- Complete el siguiente cuadro con la clasificación de los protozoos



4.- Enumere la clasificación de las algas

1)
2)
3)
4)
5)
6)