

E EGB "JUAN RAIMUNDO FIGUEROA"



PRUEBA DE DIAGNÓSTICO

1. Escribe la mitad de los siguientes números según corresponda.

16	24	30	40

2.- Resuelva el siguiente problema.

En la semana ecológica de mi escuela se recolectaron 273 kilos de botellas para reciclar, y luego 356 kilos. ¿Cuántos kilos se reciclaron?

- A. 826
- B. 851
- C. 629
- D. 999

3.- Suma y una con la respuesta correcta.

a. $3 + 3 + 3 =$ 18

b. $4 + 4 + 4 + 4 =$ 16

c. $9 + 9 =$ 9




4.- Multiplica y une con línea con la respuesta.

a. $3 \times 4 =$ 42

b. $5 \times 7 =$ 35

c. $7 \times 6 =$ 12

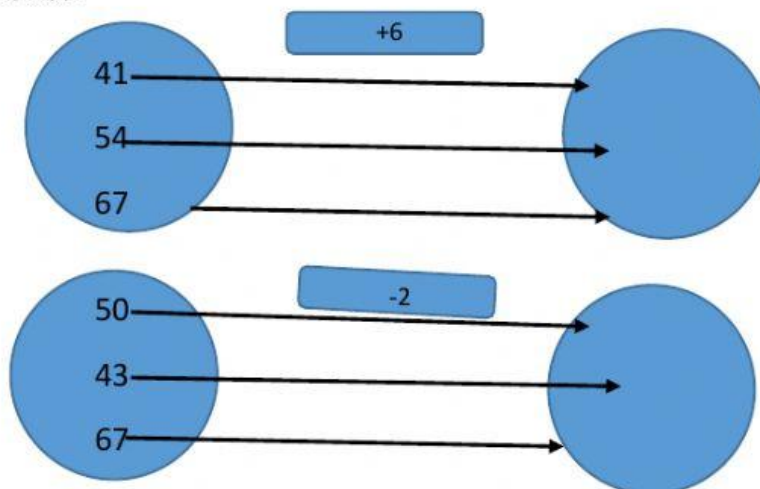
5.- Escribe bajo cada figura el número de ángulos, vértices y lados que tiene cada una.

Elementos			
Lados			
Vértices			
Ángulos			

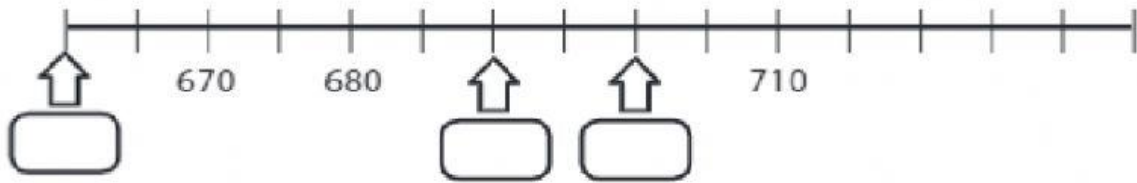
6.- Resuelve y escribe los términos de la suma.

$$\begin{array}{r} 24 \\ + \\ 15 \\ \hline \end{array}$$

7.- Completa los elementos del conjunto para se cumpla la relación numérica:



8.- Observa esta recta numérica y escribe los números que deben ir en las casillas correspondientes.



9. Descubre y selecciona las cantidades que rige esta secuencia.



10.- Arrastra y ubica la barra correspondiente, en el diagrama gráfico de acuerdo a los porcentajes de población de las regiones naturales del Ecuador.

	Región	% Población
A	Litoral	49.36
B	Interandina	44.79
C	Amazónica	5.43

