


LATIHAN SOAL SIMULASI LEVEL AKM


SEMOGA SUKSES!

NAMA SISWA :



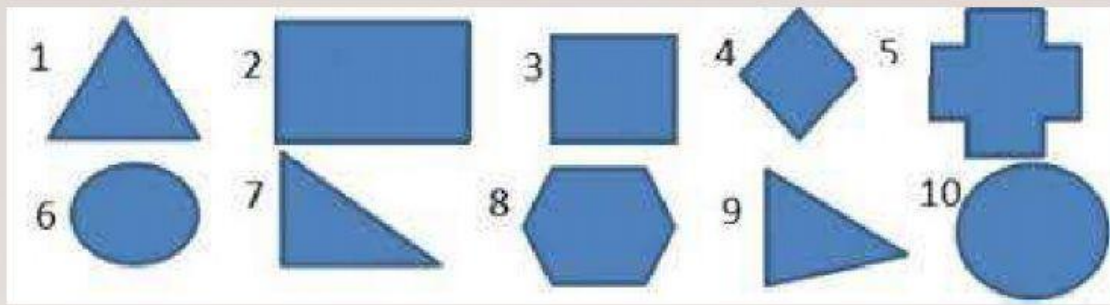
Perhatikan gambar kartu-kartu bilangan berikut!



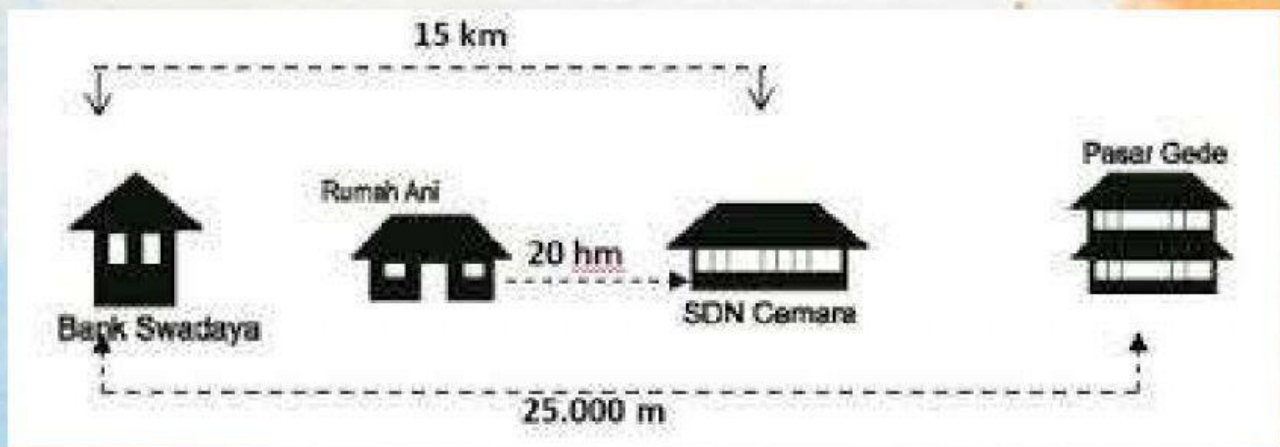
Kartu bilangan yang nilai angka ratusannya sama dengan kartu  adalah . . .



Perhatikan gambar-gambar di bawah ini dan pilihlah pernyataan yang sesuai dengan gambarnya!



- ☐ Bangun persegi panjang ditunjukkan nomor 1, 4 dan 6
- ☐ Bangun persegi ditunjukkan nomor 4,5 dan 8
- ☐ Bangun segitiga ditunjukkan oleh nomor 1, 7 dan 9
- ☐ Bangun segi banyak ditunjukkan oleh nomor 3, 4 dan 6
- ☐ Bangun segi empat ditunjukkan oleh nomor 2, 3 dan 4



Berapa jarak dan SDN Cemara ke Pasar Gede?

- A. 10.000 m
- B. 4.000 m
- C. 1.000 m
- D. 400 m



Gambar di bawah ini menunjukkan susunan permen jeli berbentuk boneka. Pada gambar terdapat permen jelly warna merah, hijau, kuning, dan putih. Banyak permen jelly warna putih dapat dihitung dengan cara mengurangi banyaknya permen jelly warna merah, hijau, dan kuning dari total keseluruhan permen jelly di atas.

Maka banyaknya permen jelly warna putih dapat dinyatakan sebagai?

- A. $77 - 18 - 18 - 4$
- B. $79 - 18 - 18 - 4$

- C. $79 - 20 - 18 - 6$
- D. $77 - 20 - 18 - 6$



Perhatikan penjumlahan 5 digit berikut!

$$\begin{array}{r} 3 \quad 1 \quad 7 \quad 3 \quad 2 \\ 6 \quad 8 \quad 2 \quad 6 \quad A \\ \hline \end{array} +$$

Berapa nilai A yang harus kamu ganti supaya hasil penjumlahan tersebut bilangan 6 digit?

ANGKA	BISA	TIDAK
6	<input checked="" type="checkbox"/>	<input checked="" type="checkbox"/>
7	<input checked="" type="checkbox"/>	<input checked="" type="checkbox"/>
8	<input checked="" type="checkbox"/>	<input checked="" type="checkbox"/>
9	<input checked="" type="checkbox"/>	<input checked="" type="checkbox"/>



Apakah kalian pernah makan permen jeli? Gambar di bawah menunjukkan permen jeli tusuk dengan isi yang berbeda. Setiap tusuk terdapat beberapa buah permen jeli dengan warna yang sama. Satu tusuk isi 3 permen dengan harga Rp2.000,00 dan satu tusuk isi 5 permen dengan harga Rp3.000,00.





Ita membeli 2 tusuk permen jeli isi 5 dan 5 tusuk permen jeli isi 3. Ita membayar dengan 2 lembar uang sepuluh ribuan. Uang kembalian yang diterima Ita adalah

- A. Rp16.000,00
- B. Rp14.000,00
- C. Rp4.000,00
- D. Rp2.000,00

Perhatikan gambar di bawah ini!

Toko Permen Andi



Rp3000,00
Permen Jeruk



Rp3000,00
Permen Lolipop



Rp3000,00
Permen Anggur



Harga lima buah permen lolipop adalah

- A. Rp3.000,00
- B. Rp6.000,00
- C. Rp9.000,00
- D. Rp15.000,00

Buah merupakan asupan bergizi yang dibutuhkan oleh tubuh kita dan sangat baik dianjurkan dalam menjaga kesehatan tubuh. Pada saat kita membeli buah, salah satu hal yang dilakukan adalah buah tersebut ditimbang untuk mengetahui beratnya.



Pilihlah pernyataan yang benar berikut ini!

- ☒ Buah semangka lebih berat dari buah jeruk dan apel
- ☒ Buah jeruk dan apel lebih ringan dari buah anggur
- ☒ Buah semangka lebih ringan dari buah anggur, jeruk dan apel
- ☒ Buah anggur lebih berat dari buah jeruk dan apel