

Multiplicamos ordenando




- 1 En el aula de tercer grado celebrarán los cumpleaños del mes. Los estudiantes trajeron bocaditos para compartir. ¿Cuántos bocaditos trajo cada uno?

Completa según la distribución de los bocaditos en los azafates.



Quequitos de chocolate

Filas



Hay filas de quequitos.

En cada fila hay quequitos.

2 filas de 5 es igual a .

$$2 \times 5 = \text{}$$

- Paco trajo quequitos.



Quequitos de fresa

Filas



Hay filas de quequitos.

En cada fila hay quequitos.

3 filas de es igual a .

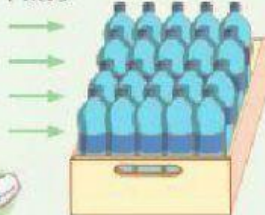
$$\text{} \times \text{} = \text{}$$

- Ana trajo quequitos.



Bebidas

Filas



Hay filas de bebidas.

En cada fila hay bebidas.

filas de es igual a .

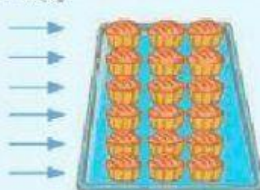
$$\text{} \times \text{} = \text{}$$

- Manuel trajo bebidas.



Quequitos de coco

Filas



Hay filas de quequitos.

En cada fila hay quequitos.

filas de es igual a .

$$\text{} \times \text{} = \text{}$$

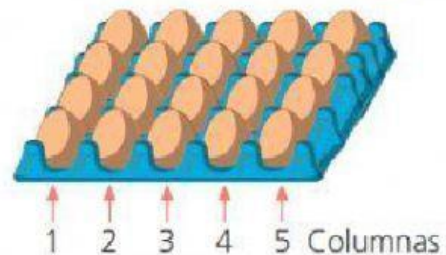
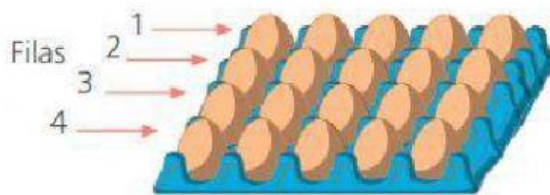
- Susy trajo quequitos.



- 2 Paco y Urpi piensan preparar tortillas para compartir con sus amigas y amigos; por eso, usarán todos los huevos que hay en el envase. ¿Cuántos huevos utilizarán para hacer las tortillas?



- a. **Observa** cómo resuelven el problema Paco y Urpi. **Completa.**



Paco

Hay 4 filas de huevos y en cada una hay _____ huevos.

_____ filas de _____ huevos es

igual a _____.

$$\boxed{} \times \boxed{} = \boxed{}$$

Urpi

Hay 5 columnas de huevos y

en cada una hay _____ huevos.

_____ columnas de _____ huevos

es igual a _____.

$$\boxed{} \times \boxed{} = \boxed{}$$

¡Sigue practicando tus tablas de multiplicar!

