




1) Observa y completa:

a)



¿Cuántos globos hay en total?, $5 \times 3 = \dots\dots\dots$, hay $\dots\dots\dots$ globos.



¿Cuántos globos recibe cada niño?, $15 : 5 = \dots\dots\dots$,
Cada niño recibe $\dots\dots\dots$ globos.



¿Cuántos globos recibe cada niño?, $15 : 3 = \dots\dots\dots$,
Cada niño recibe $\dots\dots\dots$ globos.