




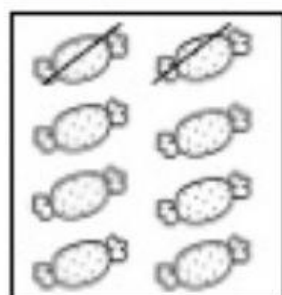
COMPLETE COM OS NÚMEROS QUE ESTÃO FALTANDO:

		3		5		7		9	10
11		13	14	15		17	18	19	
21	22	23		25	26	27		29	30

EM CADA MÃO TEMOS ___ DEDOS.

NAS DUAS MÃOS TEMOS ___ DEDOS OU UMA DEZENA DE DEDOS.

RISQUE OS ELEMENTOS DE CADA CONJUNTO PARA QUE TODOS FIQUEM COM MEIA DEZENA. JÁ COMECEI:



QUANTOS ELEMENTOS VOCÊ RISCOU?

2 BALAS

_____ FOLHAS

_____ BOLAS

_____ PINTINHO