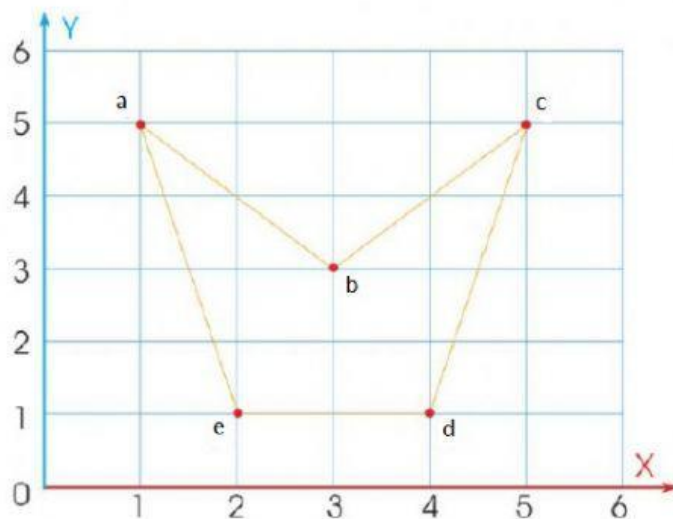


¡A JUGAR!

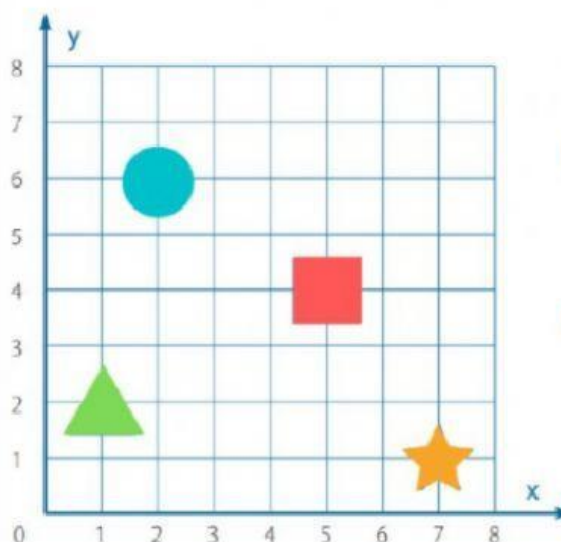
Observa el plano cartesiano y **completa** los pares ordenados.



Par ordenado	
a	(;)
b	(;)
c	(;)
d	(;)
e	(;)



Marca la alternativa que contenga el par ordenado que le corresponde.



A. ¿En qué punto se encuentra ubicado el cuadrado?

a. (5; 4)

b. (4; 5)

c. (4; 7)

d. (7; 8)

B. ¿En qué punto se encuentra ubicado el círculo?

a. (2; 5)

b. (3; 6)

c. (6; 2)

d. (2; 6)

C. ¿En qué punto se encuentra ubicado el triángulo?

a. (1; 3)

b. (1; 2)

c. (2; 1)

d. (2; 2)

D. ¿En qué punto se encuentra ubicada la estrella?

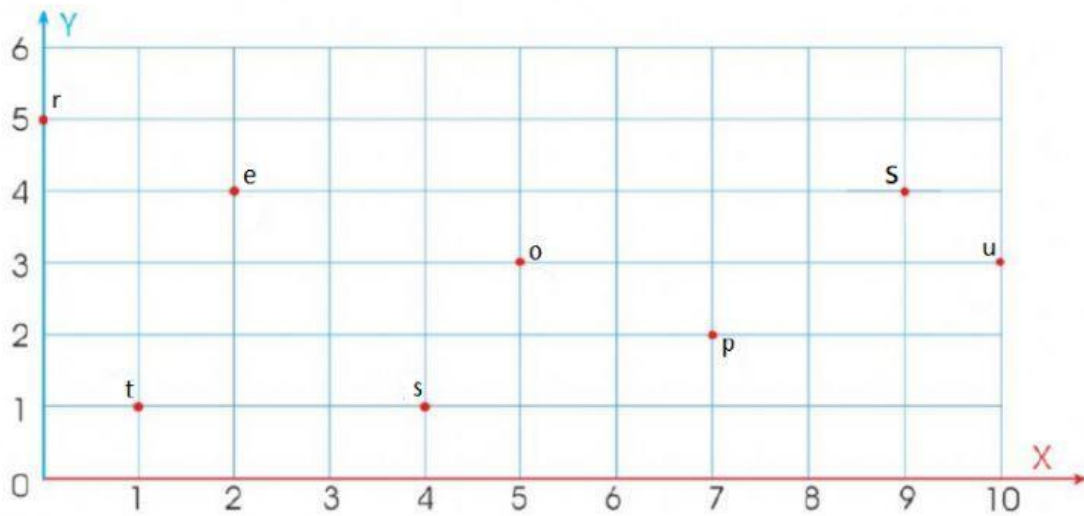
a. (1; 7)

b. (7; 3)

c. (6; 1)

d. (7; 1)

Observa las letras en el plano cartesiano y **descubre** el mensaje oculto, según indican los pares ordenados.



(2;4)	(0;5)	(2;4)	(4;1)	(0;5)	(2;4)	(9;4)	(7;2)	(2;4)	(1;1)	(10;3)	(5;3)	(4;1)	(5;3)

PARTES DEL SISTEMA DE EJES CARTESIANOS

- Ordena las palabras ubicando cada una en su lugar.

ORDENADA AL
ORIGEN

EJE DE LAS
ABSCISAS

EJE DE LAS
ORDENADAS

