

COLEGIO EL ARCO






Estudios Sociales
Los mapas
Tercero Primaria

1. Ubica los puntos cardinales de la rosa de los vientos según corresponda.

2. Escribe el nombre que le corresponde a cada uno de los elementos del mapa.

- * Indica el lugar que representa y el tema que desarrolla el mapa.
- * Señalan el nombre de los lugares.
- * Es la relación que existe entre las medidas reales de un lugar y su respectiva representación gráfica.
- * Establece la ubicación que tienen el lugar representado en el mapa.
- * Serie de símbolos o colores que se utilizan para representar elementos del mapa.

3. Selecciona el tipo de mapa que corresponde a cada situación

-  Localizar el municipio donde vivo.
-  Localizar los ríos y lagos de Guatemala.
-  Localizar lugares turísticos del país.

4. Arrastra el nombre correcto de cada uno de los elementos del mapa.

Título

Diagrama de localización

Topónimos

Convenciones

Símbolos de orientación

The image shows a political map of Satepeque, Guatemala, with several interactive elements. At the top, there are five yellow boxes containing the labels: 'Título', 'Diagrama de localización', 'Topónimos', 'Convenciones', and 'Símbolos de orientación'. Below these is the map itself, titled 'MAPA POLÍTICO SACATEPÉQUEZ' by 'PRENSA LIBRE'. The map shows various municipalities and their boundaries. To the left of the map is a legend box with the heading 'Simbología' and a list of symbols for different types of boundaries and administrative divisions. Below the legend is a small inset map of Guatemala with a red dot indicating the location of Satepeque. To the right of the map is a compass rose. Five green rectangular boxes are placed around the map, with orange arrows pointing to specific elements: one points to the title, one to the legend, one to the inset map, one to the compass rose, and one to a municipality on the map.