

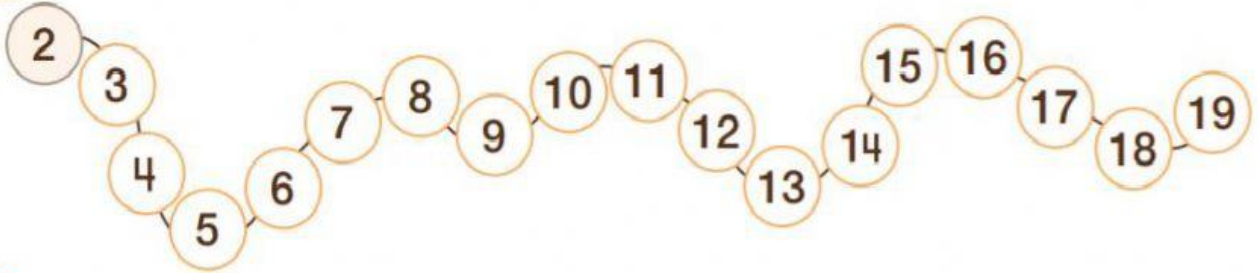


Guía de Aprendizaje Matemática Unidad "Números hasta el 60". N° 2

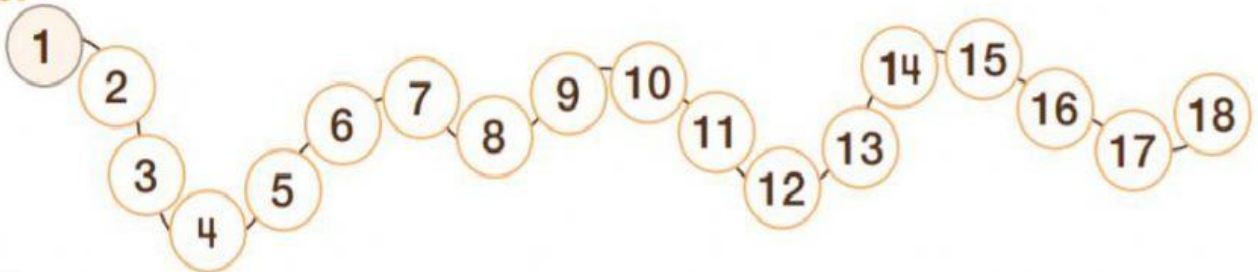
Objetivo de la clase: Leer y escribir secuencia numérica del 0 al 60 ascendentes y descendente.

1.- Pincha y cuenta de 2 en 2.

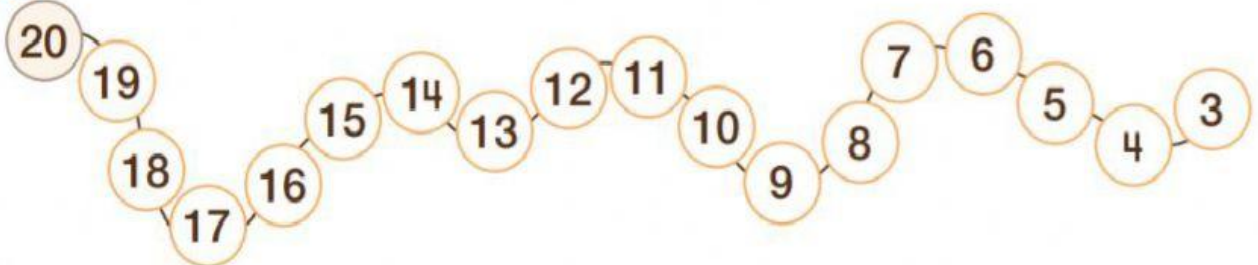
a.



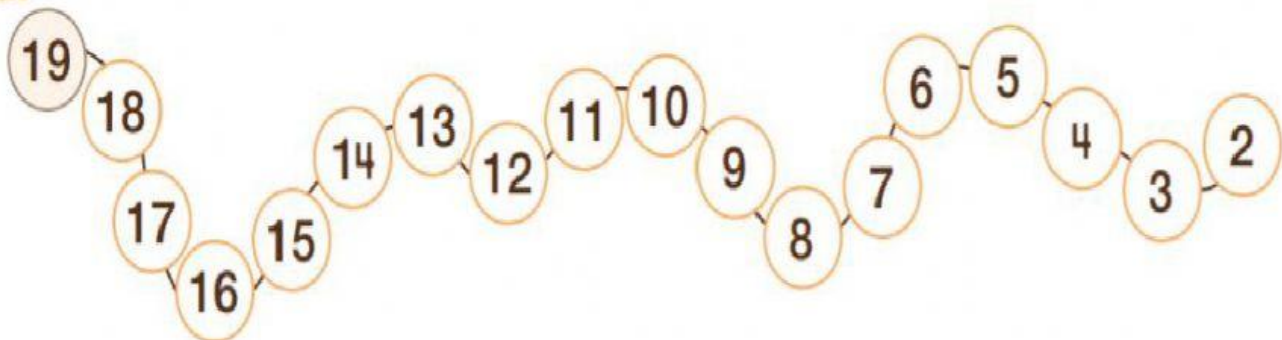
b.




c.



d.




2.- Descubre el patrón en las siguientes secuencias numéricas y luego complétalas:

4 12 16 28  Patrón: _____

27 24 15 9 Patrón: _____

10 14 16 17 Patrón: _____

21 17 15 7  Patrón: _____

3.- Cuenta y completa los cuadros con los números que faltan.

a. De 3 en 3

3					
---	--	--	--	--	--

22					
----	--	--	--	--	--

45					
----	--	--	--	--	--

De 4 en 4

4					
---	--	--	--	--	--

26					
----	--	--	--	--	--

38					
----	--	--	--	--	--

c. De 5 en 5

5					
---	--	--	--	--	--

33					
----	--	--	--	--	--

2					
---	--	--	--	--	--

D. De 10 en 10

10					
----	--	--	--	--	--

2					
---	--	--	--	--	--

5					
---	--	--	--	--	--

4. Escribe el patrón que corresponde:

A. (25) (30) (35) (40) Patrón: _____

B. (30) (33) (36) (39) Patrón: _____

C. (40) (35) (30) (25) Patrón: _____

D. (100) (96) (92) (88) Patrón: _____

Evaluó mi desempeño (marca la opción)



Comprendo lo que aprendí y puedo explicarlo a mi familia.



Comprendo lo que aprendí pero necesito ayuda para explicarlo.



No estoy seguro (a) de lo que aprendí; necesito ayuda...