





# CIRCULO Y CIRCUNFERENCIA

*Indique cuales son círculos y cuales son circunferencias*



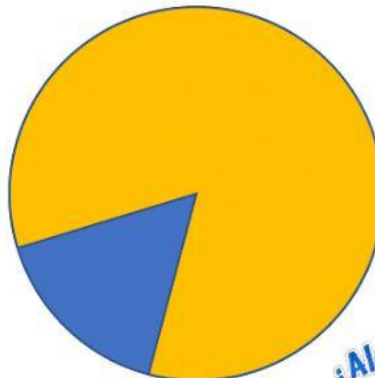
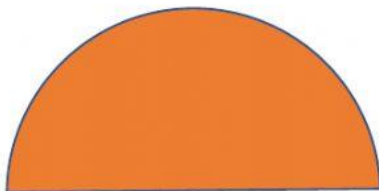
*Complete con la respuesta correcta*

EL ANGULO FORMADO POR 2 RADIOS, CON EL VERTICE EN EL MEDIO SE LLAMA:

LA PORCIÓN DEL CÍRCULO DETERMINADA POR UN ÁNGULO CENTRAL FORMADO POR DOS RADIOS SE DENOMINA:

AL SECTOR CIRCULAR CUYO ÁNGULO CENTRAL ES DE  $180^\circ$  SE LLAMA:

*Que representan las siguientes figuras*



*¿Alguna pregunta?*



Escriba el nombre de las partes señaladas

