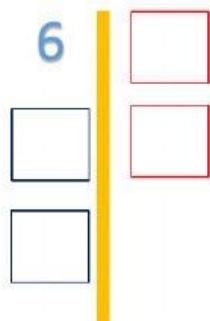




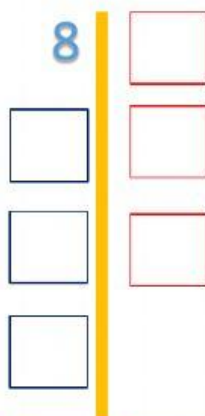
APELLIDOS Y NOMBRES _____

Grado: 5° Período: III

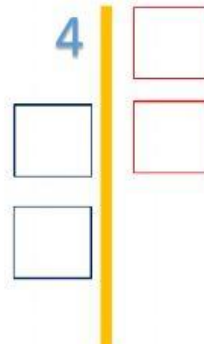
1. Descomponer en factores primos los siguientes números usando divisiones exactas.



$$6 =$$

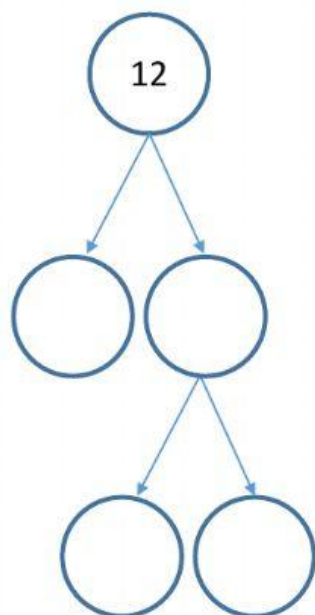


$$8 =$$

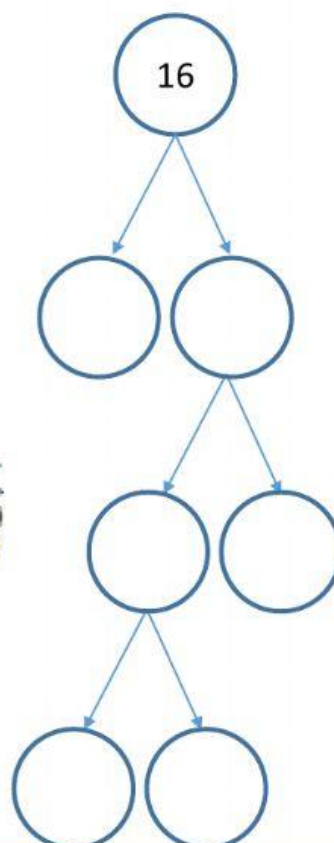


$$4 =$$

2. Descomponer en factores primos los siguientes números usando árbol de factores.



$$12 =$$



$$16 =$$