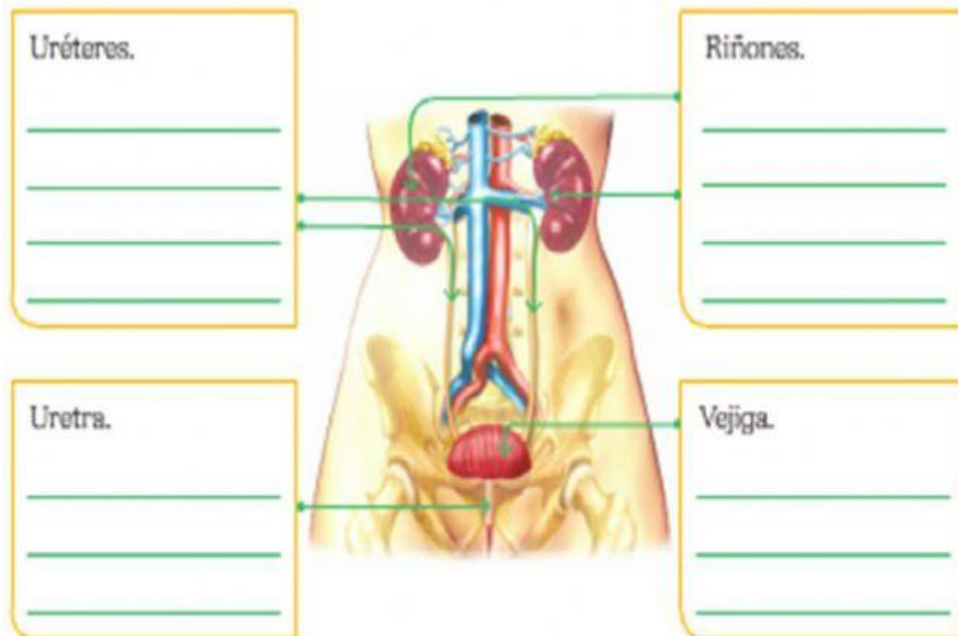


COLEGIO BAUTISTA INTERNACIONAL DE SONSONATE

EVALUACIÓN DE CIENCIA PARA 4° GRADO “A” MES DE AGOSTO

- 1- Escribe la función que realiza cada órgano que se señala.



- 2- ¿Por qué es importante el beber suficiente agua en el día?

- 3- Selecciona los procesos que intervienen en la formación de la orina

a-) Filtración	b-) Nutrición	c-) Filtración
Reabsorción	Absorción	Nutrición
Secreción	Filtración	Secreción

- 4- Escribe dos enfermedades que afectan el sistema urinario.

5- Qué hábitos debes poner en práctica para cuidar el sistema urinario.

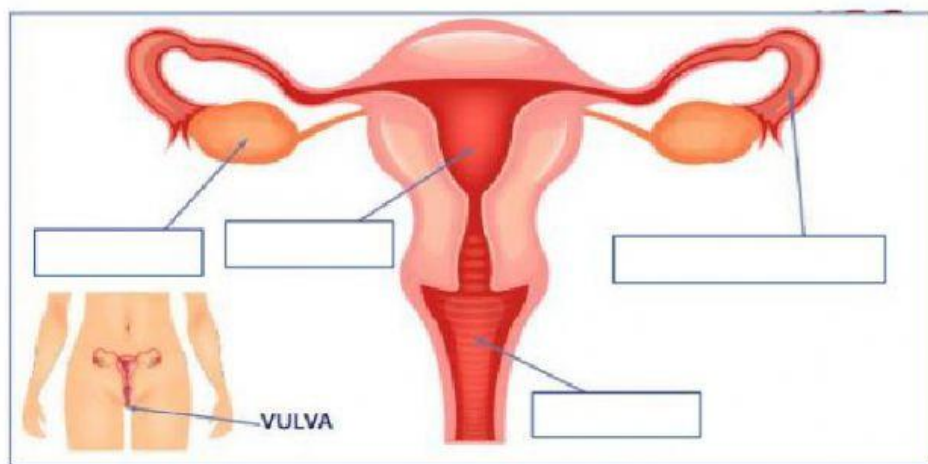
6- UBICAR LAS PARTES DEL APARATO REPRODUCTOR FEMENINO.

OVARIO

ÚTERO

TROMPAS DE FALOPIO

VAGINA



7- UBICAR LAS PARTES DEL APARATO REPRODUCTOR MASCULINO

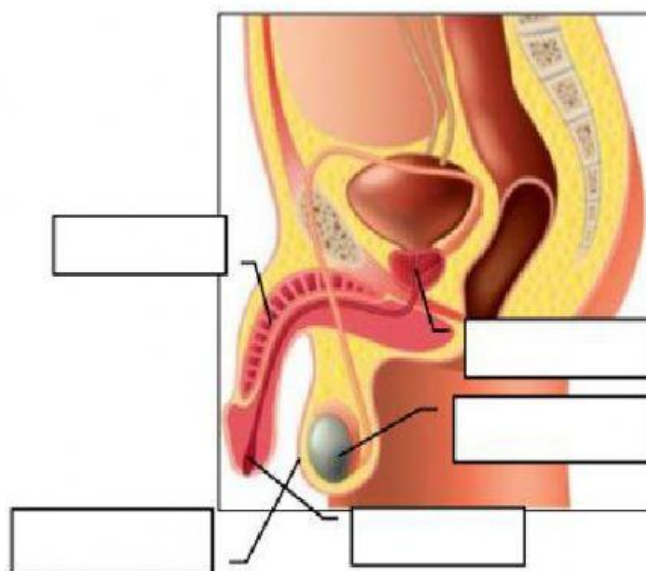
PENE

ESCROTO

URETRA

TESTÍCULOS

PRÓSTATA



8- RELACIONAR LAS PARTES DEL APARATO REPRODUCTOR MASCULINO CON LA FUNCIÓN QUE REALIZAN.

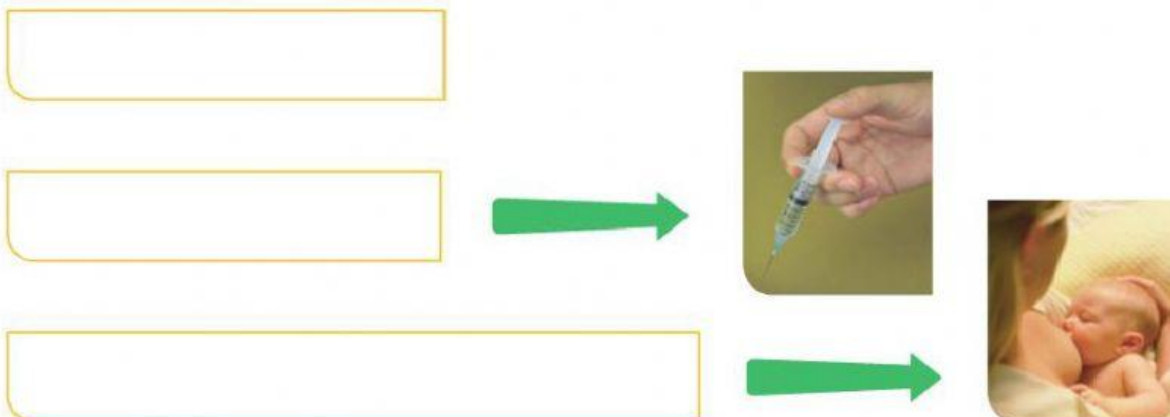
URETRA	Tejido en forma de bolsa que envuelve los testículos
PENE	Gónadas que producen espermatozoides
PRÓSTATA	Conducto de salida del semen y la orina
ESCROTO	Órgano externo que recubre la uretra y permite que los espermatozoides ingresen al conducto vaginal.
TESTÍCULOS	Glándula donde se produce el líquido denominado semen.

9- ¿QUÉ CAMBIOS EXPERIMENTAN LOS HOMBRES DURANTE LA PUBERTAD?

Aparición del vello facial desarrollo de los músculos menstruación

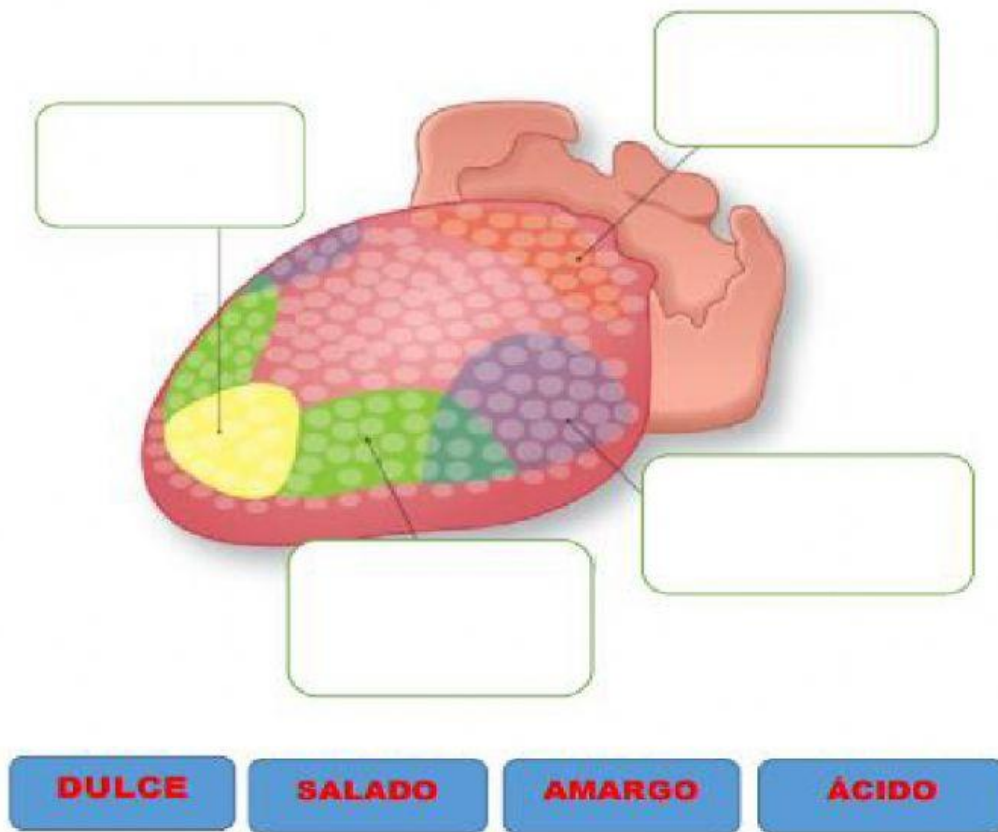
ensanchamiento de la cadera crecimiento de los senos

10- Vías de transmisión del VIH



11-

Coloca los sabores que percibimos donde corresponda.



12. Son unas pequeñas granulaciones encontradas en la lengua:

- a. Las pupilas.**
- b. Las papilas gustativas.**
- c. Los nervios gustativos.**

13- Escribe algunas medidas para cuidar nuestro sentido del gusto.