



Evaluación Acumulativa Unidad 4, lección 2

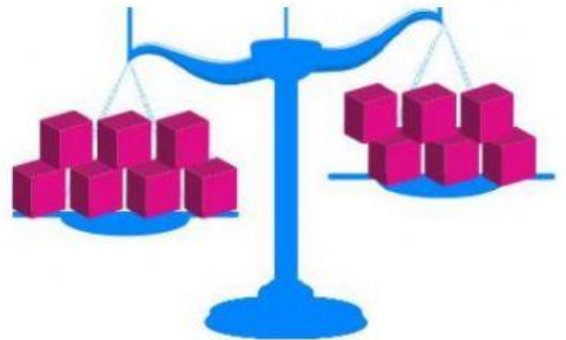
Nombre: _____ Curso: 1º Básico _____

Ptje idel: 30 - Ptje real: _____

I.- Selecciona la única alternativa correcta: (6 pts.)

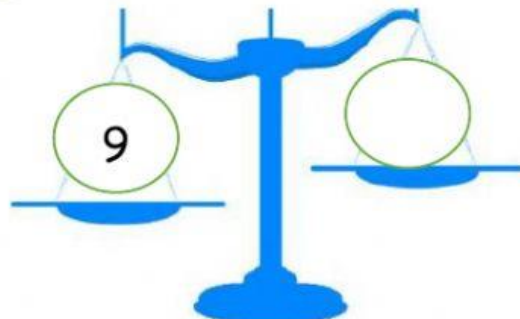
1. Para equilibrar la balanza puedo

- A. ☐ sacar 1 bloque del lado izquierdo.
B. ☐ agregar 1 bloque al lado derecho.
C. ☐ las dos alternativas son posibles.



2. Un número que puede ir en el es

- A. ☐ 8
B. ☐ 9
C. ☐ 10



3. ¿Cuánto le debes quitar al lado izquierdo para equilibrar la balanza?

- A. ☐ 3
B. ☐ 4
C. ☐ 5



II.- Completa la frase: (6 ptos.)



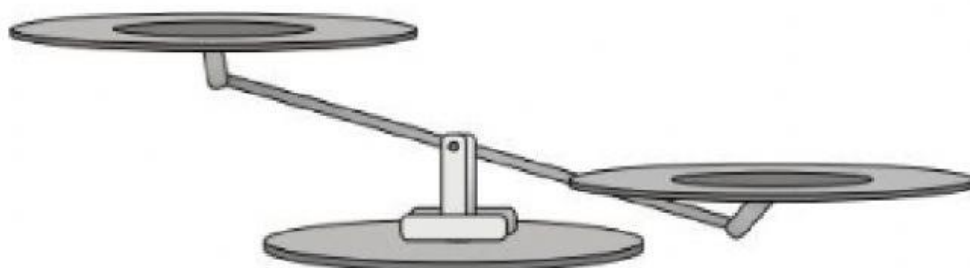
es mayor menor que



es mayor menor que

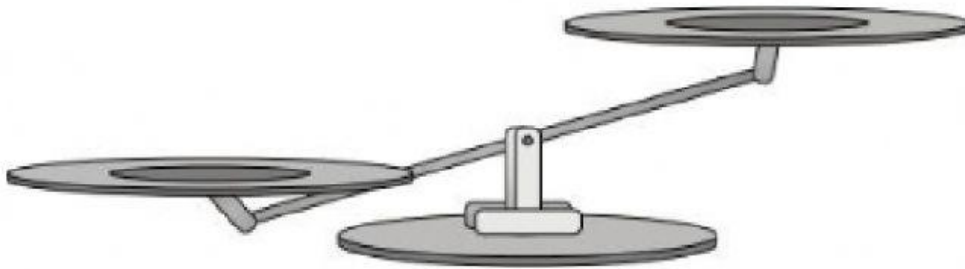
III.- Escribe el número en las balanzas y completa. (12 ptos.)

a)



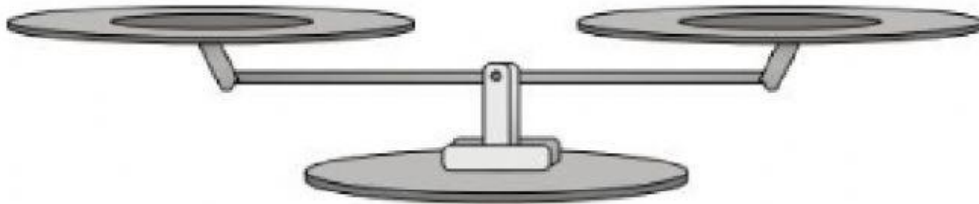
12 es menor que _____

b)



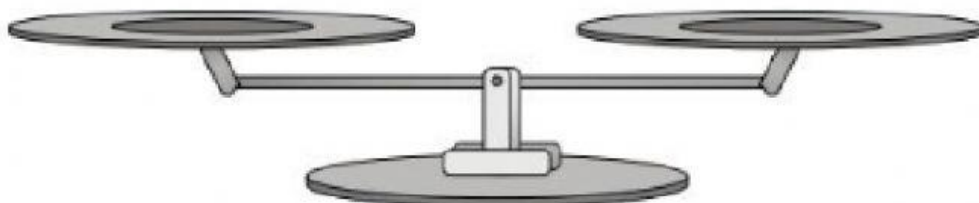
18 es mayor que _____

c)



15 es igual a _____

d)



10 es igual a _____

IV. Escribe un número para completar cada balanza. (6 ptos.)

