




EL DOBLE



EL TRIPLE



1. Une cada cantidad con su DOBLE:



2. Une cada cantidad con su TRIPLE:

