

ใบงานวิชาคณิตศาสตร์ ชั้นประถมศึกษาปีที่ 4

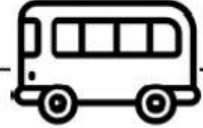
หน่วยที่ 5 เวลา (มฐ. ค 2.1 ป.4/1)

เรื่อง การอ่านตารางเวลา

ชื่อ ชั้น ป.4/..... เลขที่



คำชี้แจง : จงตอบคำถามโดยใช้ข้อมูลจากตาราง



ตารางเวลาที่ใช้เดินทางของรถโดยสาร 3 ชั้น จาก กรุงเทพฯ - จ. เพชรบุรี

จังหวัดที่เริ่มเดินทาง	รถทัวร์ปรับอากาศชั้น 1	รถทัวร์ปรับอากาศชั้น 2	รถตู้โดยสารเอกชน
กรุงเทพฯ	9.30 น.	8.45 น.	9.00 น.
สมุทรสาคร	10.10 น.	9.35 น.	9.25 น.
สมุทรสงคราม	10.55 น.	10.50 น.	9.50 น.
เพชรบุรี	11.30 น.	11.45 น.	10.30 น.

① นั่งรถทัวร์ปรับอากาศชั้น 1 จากกรุงเทพฯ ไป จ. เพชรบุรี ใช้เวลาในการเดินทางเท่าใด

ตอบ

② นั่งรถทัวร์ปรับอากาศชั้น 2 จากกรุงเทพฯ ไป จ. เพชรบุรี ใช้เวลาในการเดินทางเท่าใด

ตอบ

③ นั่งรถตู้เอกชนจากกรุงเทพฯ ไป จ. เพชรบุรี ใช้เวลาในการเดินทางเท่าใด


ตอบ

④ ช่วงเวลาที่รถทัวร์ปรับอากาศชั้น 1 วิ่งจากกรุงเทพฯ ไป จ. สมุทรสาคร กับช่วงเวลาที่รถทัวร์วิ่งจาก จ. สมุทรสาคร ไป จ. สมุทรสงคราม ใช้เวลาต่างกันเท่าใด


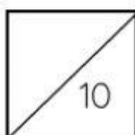
ตอบ

⑤ ช่วงเวลาที่รถทัวร์ปรับอากาศชั้น 2 วิ่งจากกรุงเทพฯ ไป จ. สมุทรสาคร กับช่วงเวลาที่รถทัวร์วิ่งจาก จ. สมุทรสงคราม ไป จ. เพชรบุรี ใช้เวลาต่างกันเท่าใด

ตอบ



คะแนน



ดีมาก (8 - 10 คะแนน)

พอใช้ (5 - 7 คะแนน)



ปรับปรุง (ต่ำกว่า 5 คะแนน)

ลงชื่อ

ครูผู้ประเมิน