

Nama :





Dapatkah kamu menghitung jumlah pemain dalam pertandingan basket?

Tulislah hitunganmu dalam kalimat matematika.

$$\bigcirc + \bigcirc = \bigcirc$$

(Each circle contains three dots "...")



Hitunglah pemain dan benda pada gambar berikut!

Ikuti contoh di atas dengan tepat!



$$\bigcirc + \bigcirc = \bigcirc$$

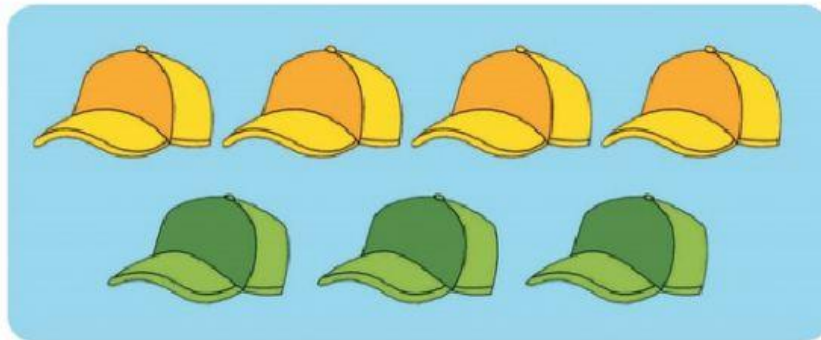


$$\bigcirc + \bigcirc = \bigcirc$$






+ =



+ =



+ =

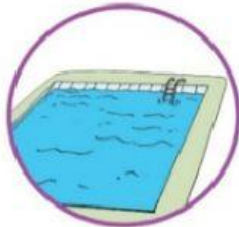


Simaklah video berikut!



Pasangkanlah gambar anak dengan olahraga kegemarannya.

Pasangkan sesuai dengan teks Olahraga Kegemaran!



Lani



Edo



Beni dan Udin



Siti



Dayu

