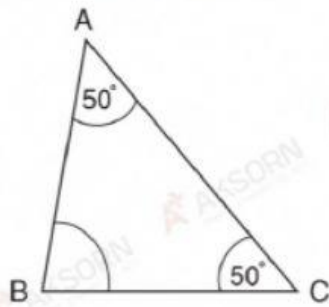


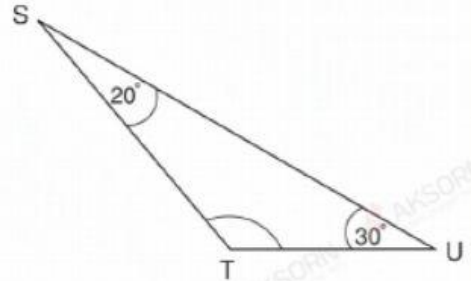
# จงหาขนาดของมุมภายในต่อไปนี้

1



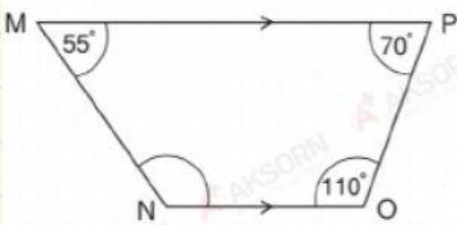
$\triangle ABC$  มีขนาดกึ่งศา

2



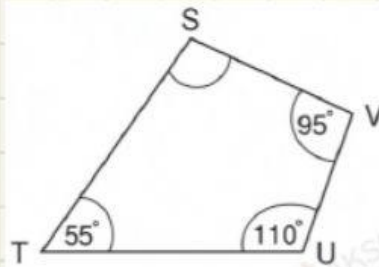
$\triangle STU$  มีขนาดกึ่งศา

3



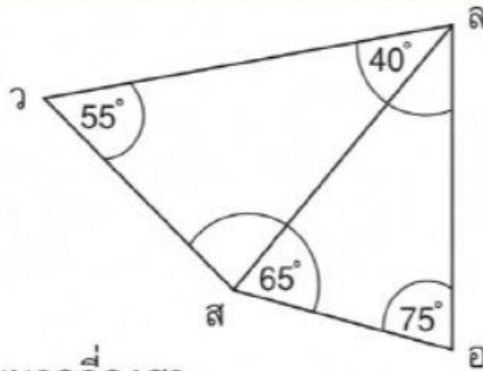
$MNO$  มีขนาดกึ่งศา

4



$VST$  มีขนาดกึ่งศา

5

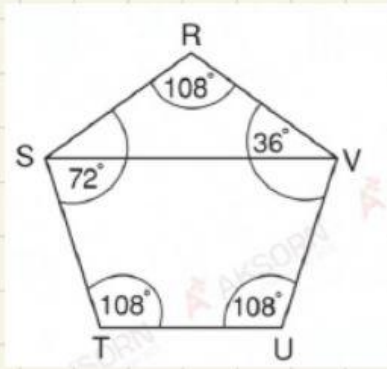


$\triangle VSO$  และ  $\triangle VSL$  มีขนาดกึ่งศา

$\triangle VSO$

$\triangle VSL$

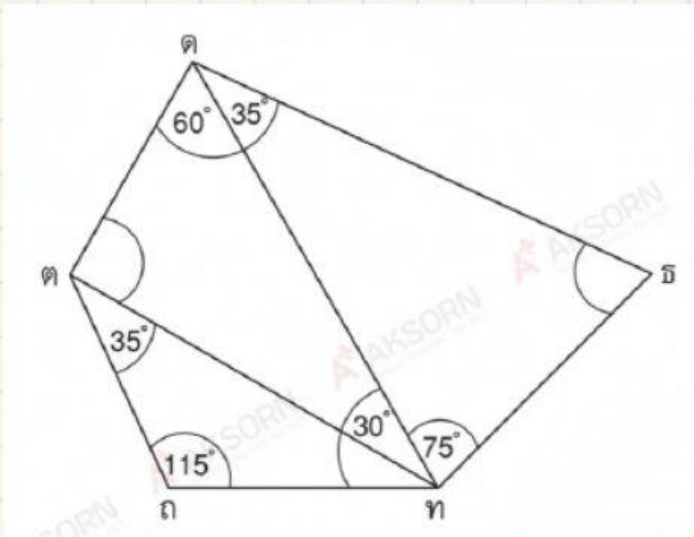
6



1)  $\hat{RSV}$  มีขนาดกี่องศา

2)  $\hat{UVS}$  มีขนาดกี่องศา

7

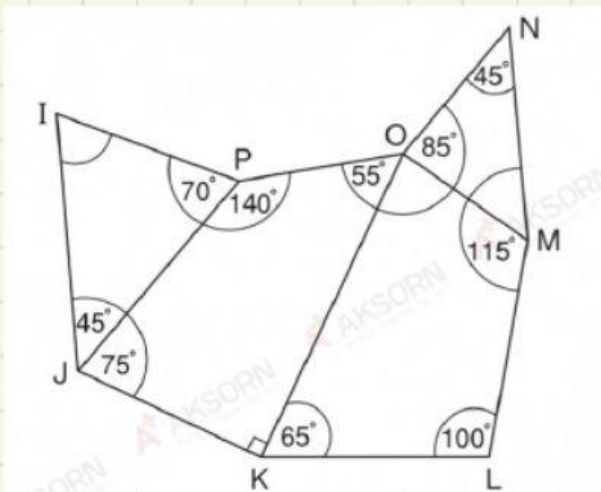


1)  $\hat{ดตท}$  มีขนาดกี่องศา

2)  $\hat{ถตต}$  มีขนาดกี่องศา

3)  $\hat{ทธต}$  มีขนาดกี่องศา

8



1)  $\hat{PIJ}$  มีขนาดกี่องศา

2)  $\hat{MOK}$  มีขนาดกี่องศา

3)  $\hat{OMN}$  มีขนาดกี่องศา