


<p align="center">UNIDAD EDUCATIVA "JOHN F. KENNEDY"</p>  <p align="center">José Luis Tamayo- Salinas- Ecuador Teléfono: 2775218 - Fax: 2779913</p>	Apellidos y Nombres:		
	Grado /Curso: SEGUNDO	Paralelo:	Nivel: Básica Elemental
	Asignatura: Computación		Docente: Ing. Rocío Yagual
	Fecha: _____		Calificación:





EVALUACIÓN PRIMER - QUIMESTE

ÁREA: COMPUTACIÓN

ÍTEM DE EJECUCIÓN SIMPLE


MEDIANTE UNA X ESCOJA LA RESPUESTA CORRECTA

1. Identifica el ícono de Paint:

<input type="radio"/>		<input type="radio"/>	
<input type="radio"/>		<input type="radio"/>	

2. Identifica el nombre de este grupo de herramientas:

- ☐ Formas
- ☐ WordArt
- ☐ Pinceles
- ☐ Paleta de colores

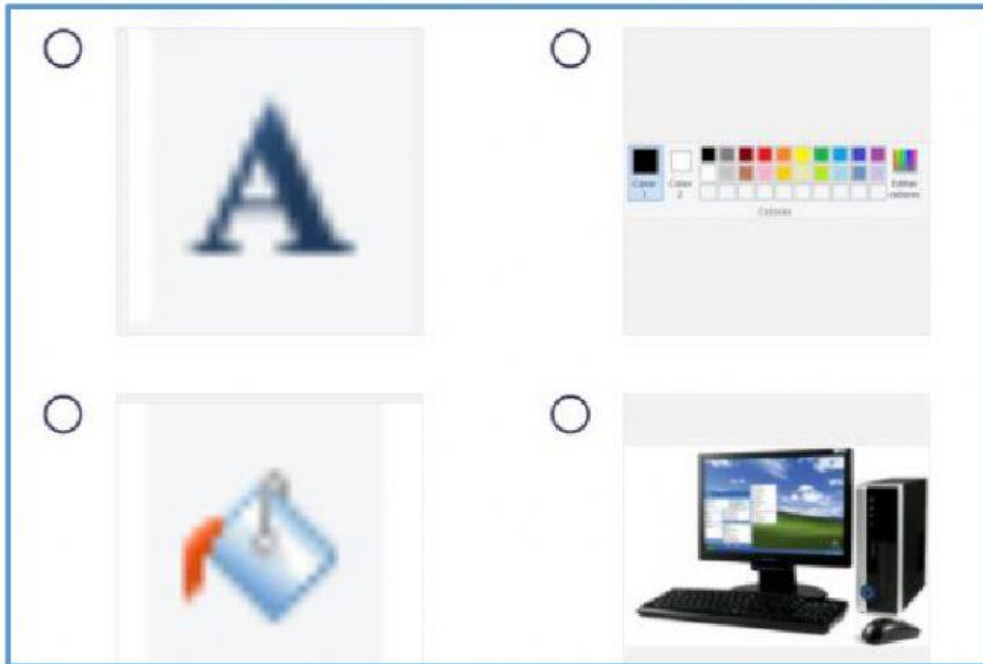


1. VALOR: 10 PUNTOS.
2. TIEMPO: 40 minutos
3. CRITERIO: Respuestas claras y entendibles.
4. Art. 226.- Acciones educativas disciplinarias relacionadas a la formación en honestidad académica. Los establecimientos educativos deben ejecutar actividades académicas dirigidas a la formación en honestidad académica de todos los estudiantes, para prevenir y/o corregir la comisión de actos de deshonestidad académica, de conformidad con la normativa que para el efecto expida el Nivel Central de la Autoridad Educativa Nacional.
 Los estudiantes que cometan actos de deshonestidad académica serán sometidos a las acciones disciplinarias establecidas en el presente Reglamento y además recibirán una calificación de cero en la tarea o el examen en que haya cometido el acto de deshonestidad académica.
 El Nivel Central de la Autoridad Educativa Nacional emitirá una normativa que detalle las acciones educativas y disciplinarias relacionadas a la formación en honestidad académica de los estudiantes según su nivel y subnivel educativo.

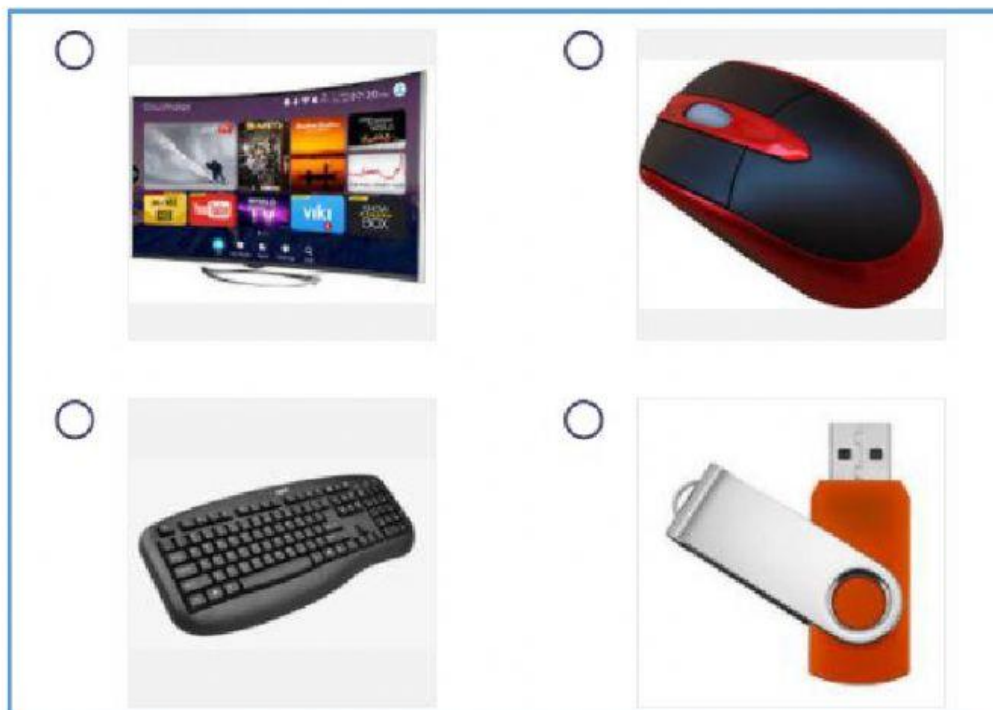


"Somos una comunidad educativa, que brinda a niños, niñas y adolescentes una educación de calidad y calidez, fundamentados en exigencias académicas, conciencia ambiental, trabajo colaborativo, innovación metodológica e inclusión educativa".

3. Selecciona ¿Que herramienta usamos para pintar las figuras?



4. ¿Cómo se llama la parte de la computadora que permite escribir?



5. ¿Cuál es la herramienta para seleccionar formas?



6. Identifique el ícono de Word



7. En el teclado ¿Qué tecla me permite pasar a otra línea o ejecuta una instrucción?



8. En el teclado ¿Qué tecla me permite agregar espacio después de cada palabra?



9. Identifique. El relleno de la presente forma es de color:



Rojo

Amarillo

Verde



10. Identifique. El borde o contorno de la presente forma es de color:



Rojo

Azul

Amarillo

			
Ing. Rocío Yagual. Docente	Prof. Karina Tigrero O. Coordinadora Comisión Técnico Pedagógica	MSc. Betty Totoy De La Cruz Rectora	Estudiante