


ONDE ESTÁ O
EQUIVALENTE?



42

30

32

38

ONDE ESTÁ O
EQUIVALENTE?




19

17

7

27

ONDE ESTÁ O
EQUIVALENTE?



60

50

30

40

ONDE ESTÁ O
EQUIVALENTE?

5

10

0

1

ONDE ESTÁ O
EQUIVALENTE?




23

26

25

35

ONDE ESTÁ O
EQUIVALENTE?




27

37

17

47

ONDE ESTÁ O
EQUIVALENTE?



60

50

70

80

ONDE ESTÁ O
EQUIVALENTE?



5

10

0

1