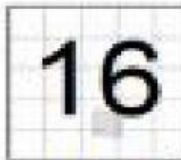


ALUNO(A):


DATA:

CONHECENDO A FAMÍLIA DO NÚMERO 10.


ESSE É O NÚMERO DEZESSEIS



ASSISTA AO VÍDEO E CONTE OS PASSARINHOS ATÉ O NÚMERO DEZESSEIS.



DESCUBRA E DIGITE O NÚMERO QUE ESTÁ FALTANDO NA FAMÍLIA DO NÚMERO 10.



CONTE A QUANTIDADE DE DUENDES. FAÇA A SOMA E DIGITE O RESULTADO NOS QUADRADOS.

