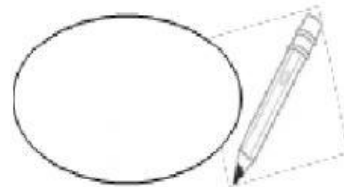




COLEGIO  
"RAMÓN CASTILLA"  
EXAMEN TRIMESTRAL DE  
CIENCIA Y AMBIENTE II



Apellidos y nombres:

Curso: CIENCIA Y  
AMBIENTE

Grado: Kinder - 5 años

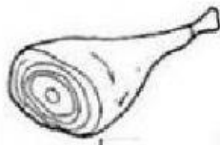
Fecha: 02 / 09 / 2021

1. Une con una línea su pareja, según la utilidad de cada planta.




Miss Katherine Tenorio Collado



2. Clasifica los alimentos según su origen.



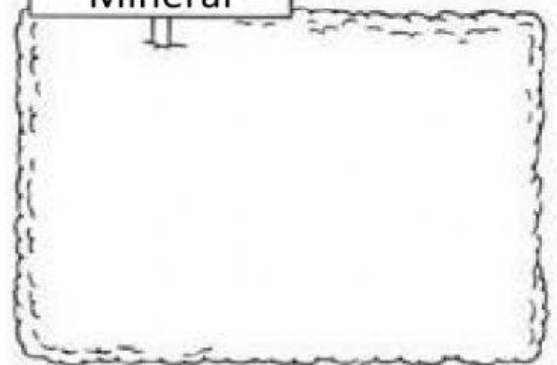
Animal



Vegetal



Mineral



3. Enumera del 1 al 4 el ciclo de vida de la planta.

