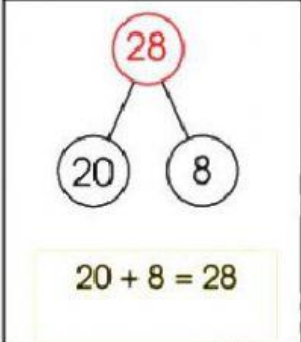
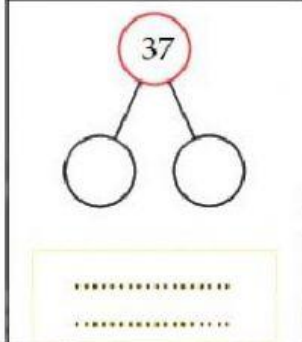
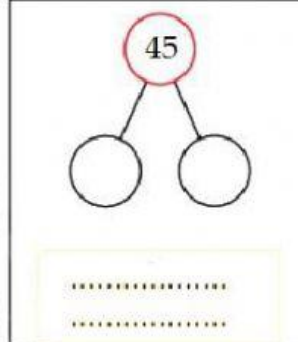


TỰ HỌC TOÁN

Bài 1: Điền số và phép tính thích hợp vào chỗ trống, theo mẫu.

		
---	---	--

Bài 2: Điền số thích hợp vào chỗ chấm:

a) 11, 12, ...,, 15, 16, 17, 18,,

b) 35,,,, 39, 40,, 42, 43

c) 100,,, 97, 96,,,

Bài 3: Điền dấu $<$, $>$, $=$ thích hợp vào chỗ chấm:

13 23	36 47	54 ... 50 + 4
22 11	75 - 5 70	54 ... 49